

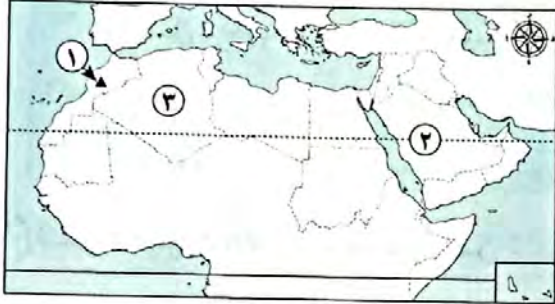
# اختبارات سلاح التلميذ على الوحدة الثانية



١٥

(مجاب عنها)

## الاختبار الأول



١) لاحظ الخريطة، ثم أجب:

- ١ - اختر: يشير رقم (١) إلى .....  
(جبال أطلس - واحة سيوة - بحر الرمال - وادي الجدير)
- ٢ - صوب: يشير الرقم (٢) لمدار الجدي.
- ٣ - يشير رقم (٣) لإقليم مناخي هو .....

٢) أكمل العبارات الآتية بما يناسبها من كلمات:

- ١ - تتميز الأجزاء الشمالية من الوطن العربي بمناخها .....
- ٢ - تقع محمية أرز الشوف في دولة .....
- ٣ - تكونت الأودية الجافة في الوطن العربي نتيجة .....

٣) اكتب كلمة (صواب) أمام العبارة الصحيحة، وكلمة (خطأ) أمام العبارة غير الصحيحة:

- ١ - تُعد اليمن أكثر الدول العربية تعرضاً للجفاف. ( )
- ٢ - يمتد بحر الرمال العظيم بين مصر والسودان. ( )
- ٣ - إقليم مناخ البحر المتوسط دافئ ممطر شتاءً. ( )
- ٤ - تتكون الثلوج على جبال لبنان. ( )

٤) اختر الإجابة الصحيحة مما بين القوسين:

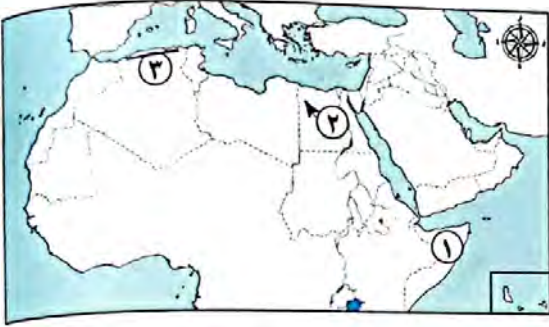
- ١ - أحد المرتفعات التي نشأت نتيجة الحركات الانكسارية في الوطن العربي جبال .....  
(الحجاز - زاغروس - طوروس - كردستان)
- ٢ - الجزء الجنوبي الغربي من شبه الجزيرة العربية يقع ضمن مناخ الإقليم .....  
(الصحراوي الحار - المداري - البحر المتوسط - الاستوائي)
- ٣ - تسقط الأمطار الموسمية صيفاً على .....  
(جبال الحجاز - مرتفعات اليمن - جبال أطلس - جبال زاغروس)

٥) أجب عما يلي:

- ١ - ما العلاقة بين: المياه الجوفية - الواحات؟
- ٢ - ما المقصود بـ : الإقليم المناخي؟



١) لاحظ الخريطة، ثم أجب:



١ - اختر: يشير رقم (١) إلى دولة تعرضت لمشكلة الجفاف وهي .....

(اليمن - جيبوتي - موريتانيا - الصومال)

٢ - صوب: يشير رقم (٢) لواحة الكفرة.

٣ - يشير رقم (٣) لإقليم .....

٢) أكمل العبارات الآتية بما يناسبها من كلمات:

١ - تنشئ الدول العربية المدن الذكية لتقليل انبعاثات .....

٢ - ترتفع درجات الحرارة في الوطن العربي كلما اتجهنا .....

٣ - تعيش الأسود والزراف في إقليم المناخ .....

٤ - تكونت جبال عُمان نتيجة الحركات .....

٣) اكتب كلمة (صواب) أمام العبارة الصحيحة، وكلمة (خطأ) أمام العبارة غير الصحيحة:

١ - يشتهر إقليم المناخ الصحراوي الحار بنمو أشجار الزيتون. ( )

٢ - تسقط الأمطار بغزارة على الجهات الداخلية للمرتفعات. ( )

٣ - زحف الكثبان الرملية من أسباب حدوث التصحر. ( )

٤) اختر الإجابة الصحيحة مما بين القوسين:

١ - يسود معظم مناطق الوطن العربي المناخ .....

(الحار - المعتدل - الاستوائي - القطبي)

٢ - عُقد مؤتمر المناخ للأمم المتحدة (COP 27) عام ٢٠٢٢م في مدينة .....

(الرياض - الدار البيضاء - صنعاء - شرم الشيخ)

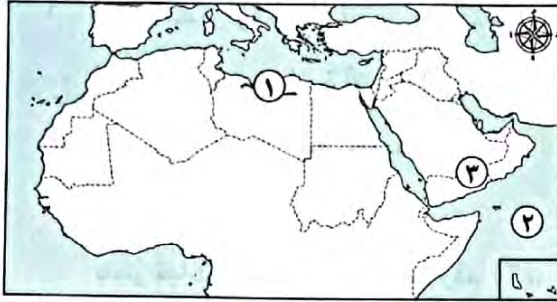
٣ - تنتشر العديد من الهضاب في شبه الجزيرة العربية ومنها هضبة .....

(الجلف الكبير - الشطوط - بادية الشام - التيه)

٥) أجب عما يأتي:

١ - ما العلاقة بين: المناخ - الرحلات الجوية؟

٢ - فسر العبارة التالية: إنشاء المحميات الطبيعية في الوطن العربي.



١) لاحظ الخريطة، ثم أجب:

- ١ - اختر: يشير رقم (١) إلى إقليم مناخي تنمو به .....  
(نبات الصبار - حشائش السافانا - نبات الخروع -  
حشائش الإستبس)
- ٢ - صواب أم خطأ:  
يشير رقم (٢) إلى المحيط الأطلنطي. ( )
- ٣ - يشير رقم (٣) لهضبة .....

٢) أكمل العبارات الآتية بما يناسبها من كلمات:

- ١ - أكبر هضاب الوطن العربي مساحة هي هضبة .....
  - ٢ - مبادرة زراعة ١٠٠ مليون شجرة مثمرة أطلقتها دولة .....
  - ٣ - تهب على الوطن العربي رياح شديدة الحرارة صيفًا قادمة من جنوب قارة .....
- ٣) اكتب كلمة (صواب) أمام العبارة الصحيحة، وكلمة (خطأ) أمام العبارة غير الصحيحة:

- ١ - تسقط الأمطار على هيئة سيول في بعض مناطق الإقليم الصحراوي الحار. ( )
- ٢ - إذا تعامدت الشمس على مدار السرطان يحدث فصل الصيف في الوطن العربي. ( )
- ٣ - تحدث مشكلة ندرة المياه العذبة بسبب قلة أعداد سكان الدول العربية. ( )

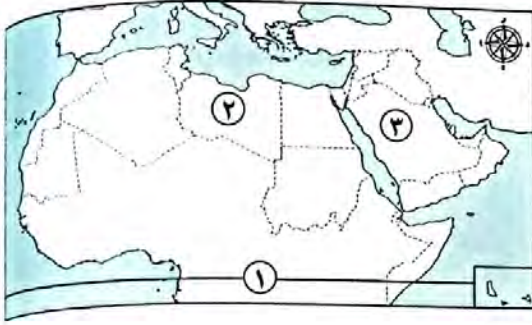
٤) اختر الإجابة الصحيحة مما بين القوسين:

- ١ - أحد جبال الوطن العربي التي نشأت نتيجة الحركات الالتوائية هي جبال .....  
(عسير - أطلس - الحجاز - الشام)
- ٢ - يريد صديقك زيارة محمية ضانا؛ لذا عليه التوجه لدولة ..... (لبنان - فلسطين - سوريا - الأردن)
- ٣ - يكون الشتاء بالوطن العربي ممطرًا خاصة على المناطق المطلة على ساحل .....  
(البحر الأحمر - خليج عدن - الخليج العربي - البحر المتوسط)
- ٤ - الدولة العربية التي أطلقت مبادرة زراعة ٤٥٠ مليون شجرة هي .....  
(الجزائر - الأردن - السعودية - مصر)

٥) أجب عما يأتي:

- ١ - قدم مقترحًا واحدًا لـ: مواجهة مشكلة التصحر في الوطن العربي.
- ٢ - اكتب دليلًا واحدًا على صحة العبارة التالية:  
«تتعدد السهول الفيضية في الوطن العربي»





١) لاحظ الخريطة، ثم أجب:

١ - اختر: يشير رقم (١) لـ .....

( مدار الجدي - دائرة الاستواء - مدار السرطان -

خط جرينتش)

٢ - صواب أم خطأ:

ينمو نبات الصبار في الإقليم رقم (٢). ( )

٣ - يشير رقم (٣) إلى وادي جاف بالسعودية هو .....

٢) أكمل العبارات الآتية بما يناسبها من كلمات:

١ - يشتهر الإقليم المناخي المداري بنمو حشائش .....

٢ - تقع وسط شبه الجزيرة العربية هضبة .....

٣ - «مشكلة بيئية تحدث نتيجة نقص كمية الأمطار في بعض السنوات» تشير العبارة إلى .....

٣) اكتب كلمة (صواب) أمام العبارة الصحيحة، وكلمة (خطأ) أمام العبارة غير الصحيحة:

١ - تؤدي التيارات البحرية الباردة إلى انخفاض درجات حرارة السواحل القريبة منها. ( )

٢ - تهتم الدول العربية بإنشاء المحميات الطبيعية. ( )

٣ - أدنى نقطة في الوطن العربي هي بحر العرب. ( )

٤ - تقل درجات الحرارة كلما ارتفعنا عن مستوى سطح البحر. ( )

٤) اختر الإجابة الصحيحة مما بين القوسين:

١ - أي من التالي يُعد سببًا لحدوث التصحر؟ .....

(غزارة الأمطار - الرعي الجائر - زراعة النباتات - استصلاح الأراضي)

٢ - الحركات الانكسارية كانت سببًا في نشأة جبال .....

(زاجروس - عمان - كردستان - عسير)

٣ - دولة أجزاءها الجنوبية تنتمي إلى إقليم المناخ المداري هي .....

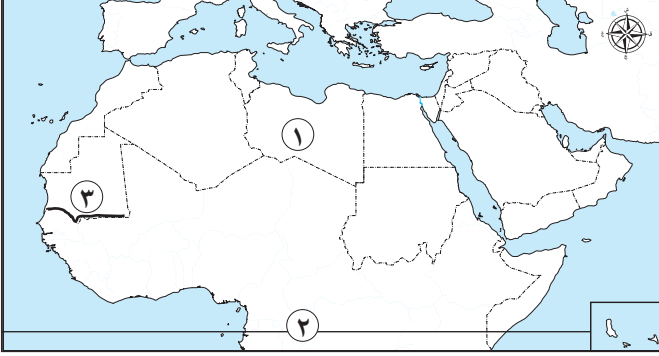
(فلسطين - تونس - لبنان - موريتانيا)

٥) قارن بين:

السهول الساحلية المطلة على (البحر المتوسط - البحر الأحمر) من حيث خصائص كل منها.

لاحظ خريطة الوطن العربي، ثم أجب:

## السؤال الأول



١ يُشير رقم (١) إلى هضبة .....

٢ صَوِّب: يشير رقم (٢) إلى مدار السرطان.

٣ يُشير رقم (٣) إلى إقليم مناخي، وهو .....

## السؤال الثاني أكمل العبارات الآتية بما يناسبها من كلمات:

١ ينمو نبات الصبار في الإقليم .....

٢ حركة مياه البحار والمحيطات تسمى .....

٣ وُلد سيدنا محمد (ﷺ) في مدينة .....

٤ دولة عربية تعاني من أكبر موجة جفاف هي .....

## السؤال الثالث اكتب كلمة (صواب) أمام العبارة الصحيحة، وكلمة (خطأ) أمام العبارة غير الصحيحة:

١ أول من أسلم من الرجال هو عمر بن الخطاب (رضي الله عنه). ( )

٢ يقع وطننا العربي بين دائرتي عرض ٢° جنوباً و ٣٧,٥° شمالاً. ( )

٣ اتساع مساحة الوطن العربي أدى إلى تشابه ظروفه المناخية. ( )

## السؤال الرابع اختر الإجابة الصحيحة مما بين القوسين:

١ "تدهور الأرض وتناقص قدرتها الإنتاجية" يُعرف باسم .....

(الجفاف - الفيضان - التصحر - السيول)

٢ تمتد جبال عسير شرق ساحل .....

(البحر المتوسط - البحر الأحمر - الخليج العربي - المحيط الهندي)

٣ تُوفي الرسول (ﷺ) في .....

(مكة - المدينة - الطائف - الشام)

## السؤال الخامس تأمل الصورة التالية لأحد مظاهر السطح في الوطن العربي، ثم اكتب الظاهرة التضاريسية وسبب تكوّنها:

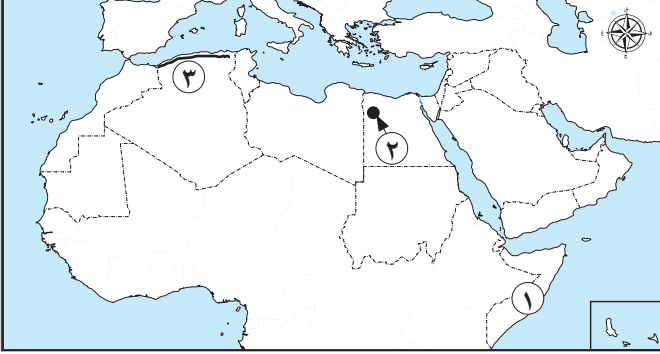


١ اسم الظاهرة: .....

٢ سبب تكوّنها: .....



السؤال الأول لاحظ خريطة الوطن العربي، ثم أجب:



- ١ اختر: يشير رقم (١) إلى دولة تعرضت لمشكلة الجفاف وهي ..... (اليمن - جيبوتي - موريتانيا - الصومال)
- ٢ صوّب: يُشير الرقم (٢) لـ لواحة الكفرة.
- ٣ يشير الرقم (٣) للإقليم المناخي .....

السؤال الثاني أكمل العبارات الآتية بما يناسبها من كلمات:

- ١ تنشئ الدول العربية المدن الذكية لتقليل انبعاثات .....
- ٢ ترتفع درجات الحرارة في الوطن العربي كلما اتجهنا .....
- ٣ تعيش الأسود والزراف في إقليم المناخ .....
- ٤ تكونت جبال عُمان نتيجة الحركات .....

السؤال الثالث اكتب كلمة (صواب) أمام العبارة الصحيحة، وكلمة (خطأ) أمام العبارة غير الصحيحة:

- ١ يشتهر إقليم المناخ الصحراوي الحار بنمو أشجار الزيتون. ( )
- ٢ تسقط الأمطار بغزارة على الجهات الداخلية للمرتفعات. ( )
- ٣ زحف الكثبان الرملية من أسباب حدوث التصحر. ( )

السؤال الرابع اختر الإجابة الصحيحة مما بين القوسين:

- ١ يسود معظم مناطق الوطن العربي المناخ .....  
(الحار - المعتدل - الاستوائي - القطبي)
- ٢ عُقد مؤتمر المناخ للأمم المتحدة (COP 27) عام ٢٠٢٢م في مدينة .....
- ٣ تنتشر العديد من الهضاب في شبه الجزيرة ومنها هضبة .....  
(الرياض - الدار البيضاء - صنعاء - شرم الشيخ)
- ٤ تنتشر العديد من الهضاب في شبه الجزيرة ومنها هضبة .....  
(الجلف الكبير - الشطوط - بادية الشام - التيه)

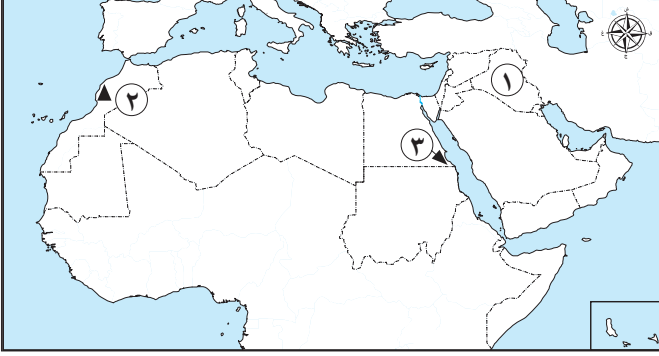
السؤال الخامس أجب عما يأتي:

- ١ ما العلاقة بين: المناخ - الرحلات الجوية؟
- ٢ فسّر العبارة التالية: إنشاء المحميات الطبيعية في الوطن العربي.



## السؤال الأول

لاحظ خريطة الوطن العربي، ثم أجب:



- ١ اختر: تقع السهول رقم (١) في قارة .....
- (إفريقيا - أوروبا - آسيا - أستراليا)
- ٢ صواب أم خطأ: يشير الرقم (٢) لأعلى قمة جبلية في الوطن العربي. ( )
- ٣ صوّب: يشير رقم (٣) لمحمية أرز الشوف.

## السؤال الثاني

أكمل العبارات الآتية بما يناسبها من كلمات:

- ١ يقع وادي الجريز في دولة .....
- ٢ يصعب إقامة مواني على ساحل البحر الأحمر بسبب وجود .....
- ٣ يسود معظم أجزاء الوطن العربي مناخ .....

## السؤال الثالث

اكتب كلمة (صواب) أمام العبارة الصحيحة، وكلمة (خطأ) أمام العبارة غير الصحيحة:

- ١ يؤدي التغير المناخي إلى حدوث الجفاف والتصحر. ( )
- ٢ تزوج النبي (ﷺ) من السيدة عائشة (رضي الله عنها) ابنة أبي بكر الصديق (رضي الله عنه). ( )
- ٣ ترتفع درجات الحرارة كلما اتجهنا جنوب الوطن العربي. ( )
- ٤ نشأت جبال عُمان نتيجة لحركات انكسارية. ( )

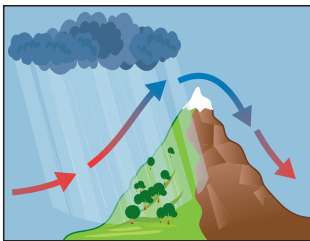
## السؤال الرابع

اختر الإجابة الصحيحة مما بين القوسين:

- ١ تنمو حشائش الإستبس في الإقليم المناخي ..... (المداري - الصحراوي الحار - البحر المتوسط - المعتدل)
- ٢ نقص كمية الأمطار في بعض السنوات يسمى ..... (التصحّر - الجفاف - السيول - الفيضان)
- ٣ تكون بحر الرمال العظيم نتيجة ..... (الحركات الالتوائية - الحركات الانكسارية - التعرية المائية - التعرية الهوائية)

## السؤال الخامس

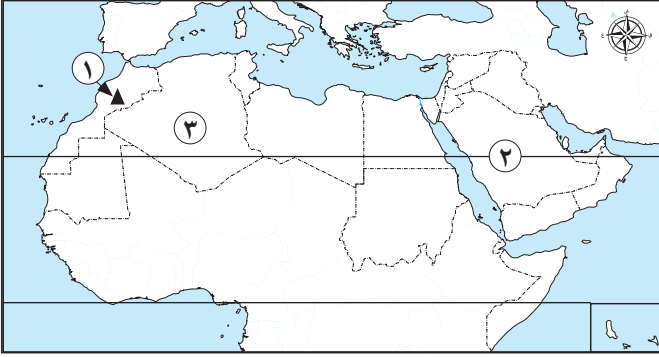
أجب عما يأتي:



- ١ صف الصورة التي أمامك.
- ٢ فسّر سبب: اختلاف لون الجبل في الجانبين.



السؤال الأول لاحظ خريطة الوطن العربي، ثم أجب:



- ١ اختر: يشير رقم (١) إلى .....  
(جبال أطلس - واحة سيوة - بحر الرمال - وادي الجريز)
- ٢ صوّب: يُشير رقم (٢) لمدار الجدى.
- ٣ يشير رقم (٣) لإقليم مناخي هو .....

السؤال الثاني أكمل العبارات الآتية بما يناسبها من كلمات:

- ١ تتميز الأجزاء الشمالية من الوطن العربي بمناخها .....
- ٢ تقع واحة الكفرة في دولة .....
- ٣ تكونت الأدوية الجافة في الوطن العربي نتيجة .....

السؤال الثالث اكتب كلمة (صواب) أمام العبارة الصحيحة، وكلمة (خطأ) أمام العبارة غير الصحيحة:

- ١ تُعد اليمن أكثر الدول العربية تعرضاً للجفاف. ( )
- ٢ يمتد بحر الرمال العظيم بين مصر والسودان. ( )
- ٣ إقليم مناخ البحر المتوسط دافئ ممطر شتاءً. ( )
- ٤ تتكون الثلوج على جبال لبنان. ( )

السؤال الرابع اختر الإجابة الصحيحة مما بين القوسين:

- ١ أحد المرتفعات التي نشأت نتيجة الحركات الانكسارية في الوطن العربي جبال .....  
(الحجاز - زاغروس - طوروس - كردستان)
- ٢ الجزء الجنوبي الغربي من شبه الجزيرة يقع ضمن مناخ الإقليم .....  
(الصحراوي الحار - المداري - البحر المتوسط - الاستوائي)
- ٣ تسقط الأمطار الموسمية صيفاً على .....  
(جبال الحجاز - مرتفعات اليمن - جبال أطلس - جبال زاغروس)

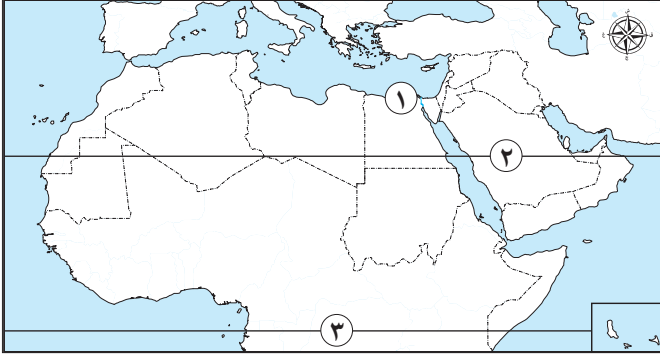
السؤال الخامس أجب عما يأتي:

- ١ ماذا يحدث إذا لم يتعرض الوطن العربي لحركات التوائية؟
- ٢ ما المقصود بـ: الإقليم المناخي؟





السؤال الأول لاحظ خريطة الوطن العربي، ثم أجب:



- ١ صواب أم خطأ: تنخفض الحرارة في المنطقة رقم (١)؛ لأنها قريبة من المسطحات المائية. ( )
- ٢ دولة عربية خططت لإنشاء مدينة نيوم الخضراء.....
- ٣ يُشير رقم (٣) لدائرة.....

السؤال الثاني أكمل العبارات الآتية بما يناسبها من كلمات:

- ١ تُعد سهول دجلة والفرات من السهول.....
- ٢ تنمو أشجار الأرز والسنوبر في إقليم مناخ.....
- ٣ تقع أعلى قمة جبلية في الوطن العربي في دولة.....
- ٤ يحل فصل الصيف على الوطن العربي عندما تتعامد الشمس على.....

السؤال الثالث من يكون؟:

- ١ عمل بالرعي واتصف بالأمانة ولقب بالصادق الأمين. (.....)
- ٢ صاحب الرسول (ﷺ) في هجرته إلى يثرب. (.....)

السؤال الرابع اختر الإجابة الصحيحة مما بين القوسين:

- ١ يُعاني ثلثي الوطن العربي من خطر..... (التصحّر - الجفاف - ندرة المياه - التلوّث)
- ٢ تعتمد الزراعة في الواحات على..... (البحر المتوسط - المياه الجوفية - الأمطار الشتوية - نهر النيل)
- ٣ عندما ترتفع ١٥٠ مترًا عن مستوى سطح البحر تنخفض الحرارة..... (درجة - درجتين - ثلاث درجات - أربع درجات)
- ٤ إذا ذهب في رحلة إلى حشائش السافانا فيمكنك مشاهدة..... (الزرافات - الثعلب - الماعز - الأغنام)

السؤال الخامس قارن بين:

الجبال الالتوائية، والجبال الانكسارية من حيث سبب النشأة.



## إجابة الاختبار ١

### السؤال الأول:

١ إفريقيا الشمالية.

٢ دائرة الاستواء.

٣ الإقليم المداري.

### السؤال الثاني:

١ الصحراوي الحار.

٢ التيارات البحرية.

٣ مكة.

٤ الصومال.

### السؤال الثالث:

١ خطأ.

٢ صواب.

٣ خطأ.

### السؤال الرابع:

١ التصحر.

٢ البحر الأحمر.

٣ المدينة.

### السؤال الخامس:

١ كثبان رملية.

٢ تكونت بفعل التعرية الهوائية.

## إجابة الاختبار ٢

### السؤال الأول:

١ الصومال.

٢ سيوة.

٣ البحر المتوسط.

### السؤال الثاني:

١ الغازات الدفيئة.

٢ جنوباً.

٣ المداري.

٤ الالتوائية.

### السؤال الثالث:

١ خطأ.

٢ خطأ.

٣ صواب.

### السؤال الرابع:

١ الحار.

٢ شرم الشيخ.

٣ بادية الشام.

### السؤال الخامس:

١ يؤثر المناخ على الطيران، ومن أمثلة ذلك أن سوء الأحوال الجوية يؤدي أحياناً إلى تأجيل أو إلغاء الرحلات الجوية.

٢ بسبب تعرض النباتات الطبيعية والحيوانات البرية للمخاطر، مثل تدهور الموارد النباتية وانقراض أنواع عديدة من الحيوانات البرية نتيجة تطور الأنشطة البشرية.



### إجابة الاختبار ٣

#### السؤال الأول:

١ آسيا.

#### السؤال الثاني:

١ السعودية.

#### السؤال الثالث:

١ صواب.

#### السؤال الرابع:

١ البحر المتوسط.

#### السؤال الخامس:

١ إجابة استرشادية: جبل مرتفع تسقط عليه الأمطار من اتجاه واحد.

٢ يرجع سبب الاختلاف إلى تأثير اتجاه المرتفعات على كمية المطر؛ فالأمطار تسقط بغزارة على منحدرات الجبال المواجهة للرياح المحملة ببخار الماء، لكنها تقل أو تنعدم على الجهات الداخلية للمرتفعات.

### إجابة الاختبار ٤

#### السؤال الأول:

١ جبال أطلس.

#### السؤال الثاني:

١ المعتدل.

#### السؤال الثالث:

١ خطأ.

#### السؤال الرابع:

١ الحجاز.

#### السؤال الخامس:

١ لم تنشأ الجبال الالتوائية، مثل جبال أطلس في إفريقيا، وجبال كردستان و زاغروس وعمان في آسيا.

٢ منطقة جغرافية من سطح الأرض تتسم بخصائص مناخية تميزها عن غيرها.



## إجابة الاختبار ٥

### السؤال الأول:

١ صواب.

٢ السعودية.

٣ الاستواء.

### السؤال الثاني:

١ الفيضية.

٢ البحر المتوسط.

٣ المغرب.

٤ مدار السرطان.

### السؤال الثالث:

١ الرسول (ﷺ).

٢ أبو بكر الصديق (رضي الله عنه).

### السؤال الرابع:

١ التصحر.

٢ المياه الجوفية.

٣ درجة.

٤ الزرافات.

### السؤال الخامس:

#### جبال انكسارية

- نشأت نتيجة حدوث انكسار (حركات انكسارية) في قشرة الأرض.


#### جبال التوائية

- نشأت نتيجة حركات باطنية (التوائية) تعرضت لها الأرض.





**السؤال الأول: ( أ )** أمامك خريطة صماء للوطن العربي، اكتب مدلول الأرقام عليها:



- ١- يشير رقم (١) إلى أدنى نقطة في الوطن العربي .....
- ٢- يشير رقم (٢) إلى دائرة عرض .....
- ٣- يشير رقم (٣) إلى إقليم مناخى .....
- ٤- يشير رقم (٤) إلى جبال التوائية .....

**(ب) ما العلاقة بين مظاهر السطح والأنشطة الاقتصادية؟**

.....

**السؤال الثاني: ( أ ) اختر الإجابة الصحيحة:**

- ١- يوجد وادى الجريز بدولة .....
  - ٢- ترتفع درجة حرارة الوطن العربي في فصل .....
  - ٣- ينبت نبات الصبار في الإقليم المناخى .....
  - ٤- عقد مؤتمر المناخ للأمم المتحدة عام ٢٠٢٢م في دولة .....
- (السعودية - الجزائر - تونس - مصر)  
(الرياح - الشتاء - الصيف - الخريف)  
(الموسمى - المدارى - الصحراوى - البحر المتوسط)  
(السعودية - الإمارات - عمان - مصر)

**(ب) فسر:** يعاني الوطن العربي من مشكلة التصحر.

.....

**السؤال الثالث: ( أ ) اكتب كلمة (صواب) أمام العبارة الصحيحة، وكلمة (خطأ) أمام العبارة غير الصحيحة:**

- ١- تكونت جبال البحر الأحمر نتيجة الحركات الانكسارية للقشرة الأرضية. ( )
- ٢- يمتد الموقع الجغرافى للوطن العربي بين قارتي آسيا وأوروبا. ( )
- ٣- يوجد بالوطن العربي أربعة أقاليم مناخية. ( )
- ٤- تقع معظم مساحة الوطن العربي في المنطقة الصحراوية الحارة. ( )

**(ب) ما النتائج المترتبة على ...؟**

- تزايد معدلات استهلاك المياه العذبة في الوطن العربي.

.....





## السؤال الأول: (أ) أكمل العبارات الآتية:

- ١- قامت الدول العربية بإصدار قوانين تجرم القطع العشوائى لـ .....
  - ٢- التيارات البحرية ..... تعمل على رفع درجة حرارة السواحل التى تمر بها.
  - ٣- تكونت السهول ..... من رواسب الأنهار.
  - ٤- أكبر الظواهر التضاريسية فى قارة إفريقيا هى .....
- (ب) ما النتائج المترتبة على ...؟ ووقوع معظم مساحة الوطن العربى بالإقليم الصحراوى الحار.

## السؤال الثانى: (أ) صوب ما تحته خط:

- ١- تعانى ليبيا من أكبر موجة جفاف .
- ٢- يقع إقليم البحر المتوسط فى الأطراف الجنوبية للوطن العربى .
- ٣- تتعامد الشمس على مدار السرطان شتاءً .

## (ب) قارن بين الإقليم المناخى المدارى والصحراوى من حيث:

- الخصائص المناخية لكل إقليم - والنباتات التى تنمو بكل إقليم.

وجه المقارنة	الإقليم المدارى	الإقليم الصحراوى
الخصائص المناخية		
النباتات بكل إقليم		

## السؤال الثالث: (أ) أمامك صورتان لأحد مظاهر السطح بالوطن العربى. حدد اسم الظاهرة وسبب تكونها:



- ١- اسم الظاهرة .....
- ٢- اسم الظاهرة .....
- سبب تكونها .....



- ١- اسم الظاهرة .....
- سبب تكونها .....

## (ب) فسر: يسود المناخ الحار معظم أجزاء الوطن العربى.



١٥ : ١٤

الحك وانتكر

١٣ : ١١

حل امتحانات أكثر

١٠ : ٨

حل تدريبات أكثر

٧ : ٥

داكر الوحدة مرة اخرى

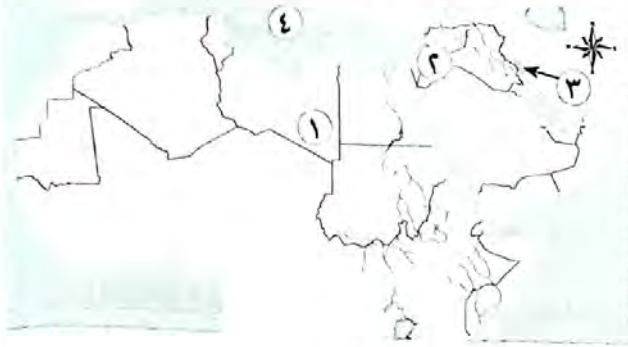
تابع مستواك

★★★★★





**السؤال الأول: (١) أمامك خريطة صماء للوطن العربي، اكتب مدلول الأرقام عليها:**



١- يشير رقم (١) إلى واحة .....

٢- يشير رقم (٢) إلى هضبة .....

٣- يشير رقم (٣) إلى جبل .....

٤- يشير رقم (٤) إلى البحر .....

**(ب) ما النتائج المترتبة على...؟**

- امتداد الوطن العربي بين قارتي إفريقيا وآسيا واقترابه من أوروبا.

**السؤال الثاني: (١) اكتب كلمة (صواب) أمام العبارة الصحيحة، وكلمة (خطأ) أمام العبارة غير الصحيحة:**

- ( ) ١- يندرس سقوط الأمطار على منحدرات الجبال المواجهة للرياح المحملة بالمياه.
- ( ) ٢- الإقليم الصحراوي يشمل معظم أجزاء الوطن العربي.
- ( ) ٣- فازت مدينة الداخلة بلقب عاصمة المدن العربية لعام ٢٠٢٢م.
- ( ) ٤- يحدث الجفاف نتيجة نقص كمية الأمطار المتساقطة.

**(ب) بم تفسر...؟**

- أهمية المحميات الطبيعية في الوطن العربي.

**السؤال الثالث: أكمل العبارات الآتية:**

- ١- تعيق مشكلة التصحر تنفيذ الخطط ..... في الوطن العربي.
- ٢- ساعدت مظاهر السطح المتنوعة على تعدد الأنشطة .....
- ٣- ساعدت السهول الفيضية في مصر والعراق على قيام .....
- ٤- يؤثر المناخ على كافة الأنشطة ..... مثل .....
- ٥- تتميز الدولة الواقعة بالإقليم المناخي المداري بشتاء ..... وصيف .....



## السؤال الأول: (أ) اختر الإجابة الصحيحة:

- ١- يقع نحو ٩٠٪ من مساحة الوطن العربي في الإقليم المناخي .....
  - (المدارى - الصحراوى الحار - الموسمى - البحر المتوسط)
  - ٢- إقليم مناخى يقع جنوب الوطن العربى ..... (الصحراوى - الموسمى - المدارى - البحر المتوسط)
  - ٣- يقصد السياح بحيرة عسل فى دولة ..... للعلاج. (الصومال - مصر - جيبوتى - اليمن)
  - ٤- دائرة عرض تمرجنوب الوطن العربى ..... (مدار الجدى - دائرة الاستواء - مدار السرطان - الدائرة القطبية)
- (ب) فسر مع ذكر السبب: اتجهت معظم الدول العربية لاستخدام مصادر طاقة نظيفة وإنشاء مدن ذكية.

## السؤال الثانى: (أ) صوب ما تحته خط:

- ١- نقص كمية الأمطار يؤدي إلى حدوث مشكلة التصحر.
  - ٢- تعيش الحيوانات مثل الزراف والأسود اعتمادًا على حشائش الإستبس.
  - ٣- يوجد بالوطن العربى خمسة أقاليم مناخية كبرى.
  - ٤- المناطق الجبلية والصحراوية تنتشر بها السياحة الثقافية.
- (ب) اذكر اثنين من التهديدات البشرية التى تتعرض لها المحميات الطبيعية.

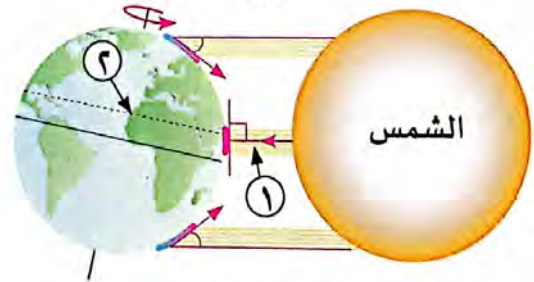
## السؤال الثالث: أمامك صورتان، أجب عن الأسئلة الموجودة أسفل كل صورة:

(ب)



- ١- تشير صورة (ب) إلى ظاهرة .....
- ٢- وضح أسباب حدوث تلك المشكلة .....

(١)



- ١- يشير رقم (١) إلى أشعة .....
- ٢- يشير رقم (٢) إلى مدار .....
- ٣- ما تأثير رقم (٢) على المناخ؟ .....

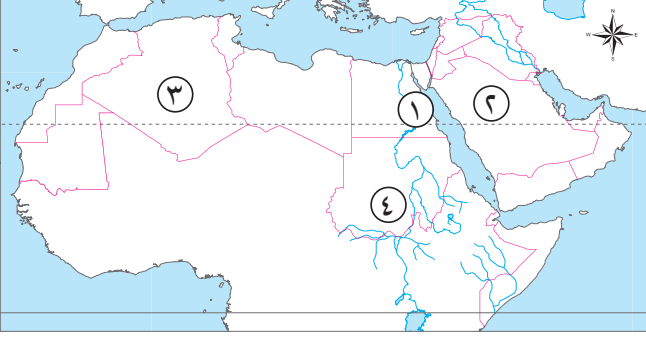




## نموذج (١)

### السؤال الأول

(أ) أمامك خريطة صماء للوطن العربي، اكتب مدلول الأرقام المشار إليها:



- ١ جبال انكسارية .....
- ٢ هضبة .....
- ٣ واحة .....
- ٤ إقليم .....

(ب) ما النتائج المترتبة على...؟

- وجود الشعاب المرجانية في سواحل البحر الأحمر.

### السؤال الثاني

اختر الإجابة الصحيحة مما بين القوسين:

- ١ توجد محمية أرز الشوف في دولة ..... (المغرب - تونس - لبنان - الجزائر)
- ٢ توجد بالوطن العربي ..... أقاليم مناخية كبرى. (أربعة - ثلاثة - خمسة - سبعة)
- ٣ التسلق من الأنشطة الاقتصادية التي يتم ممارستها في ..... (المناطق البحرية - السهول - المناطق الجبلية - الأودية)
- ٤ تعد من الجبال الالتيوائية في الوطن العربي جبال ..... (عسير - البحر الأحمر - عمان - الحجاز)
- ٥ يتميز مناخ الوطن العربي بالحرارة الشديدة في فصل ..... (الشتاء - الربيع - الصيف - الخريف)

### السؤال الثالث

اكتب كلمة (صواب) أمام العبارة الصحيحة، وكلمة (خطأ) أمام العبارة غير الصحيحة:

- ١ هضبة إفريقيا الشمالية تمتد من جبال البحر الأحمر شرقاً إلى المحيط الهندي غرباً. ( )
- ٢ تنخفض درجات الحرارة جنوب الوطن العربي. ( )
- ٣ تعد محمية ضانا بالأردن من أشهر المحميات الطبيعية بالوطن العربي. ( )
- ٤ تنتشر بالوطن العربي المراعى الطبيعية. ( )
- ٥ البحر الميت في الأردن يعد أدنى نقطة في الوطن العربي. ( )

## نموذج (٢)

### السؤال الأول

أكمل العبارات الآتية:

- ١ يوجد في وطننا العربي نوعان من الجبال هما: جبال .....، وجبال .....
- ٢ يتميز الوطن العربي بمناخ ..... في معظم أجزائه.
- ٣ تنتشر في إقليم البحر المتوسط أشجار ..... و.....
- ٤ عقد مؤتمر المناخ للأمم المتحدة عام ٢٠٢٢م في مصر في مدينة .....
- ٥ تتساقط الأمطار بغزارة على منحدرات .....

### السؤال الثاني

اكتب كلمة (صواب) أمام العبارة الصحيحة، وكلمة (خطأ) أمام العبارة غير الصحيحة:

- ١ يوجد بالوطن العربي مظاهر متنوعة تتميز بأشكالها الجذابة وألوانها الخلابة. ( )
- ٢ تتميز المناطق الساحلية للوطن العربي بمناخ معتدل. ( )
- ٣ تنمو النباتات التي تتحمل الجفاف في الإقليم المدارى. ( )
- ٤ يتميز الوطن العربي بسقوط كميات أمطار كبيرة تسمح بزراعات واسعة. ( )
- ٥ تهتم دول الوطن العربي باستخدام مصادر الطاقة النظيفة. ( )

### السؤال الثالث

اكتب ما تشير إليه العبارات الآتية:

- ١ جبال نشأت نتيجة لحركات باطنية تعرضت لها الأرض. (.....)
- ٢ منطقة جغرافية من سطح الأرض تتسم بخصائص مناخية تميزها عن غيرها. (.....)
- ٣ إقليم مناخى يقع على الأطراف الشمالية للوطن العربي. (.....)
- ٤ نقص كمية الأمطار بما لا يسمح بالزراعة أو نمو حشائش الرعى. (.....)
- ٥ تدهور الأراضي الزراعية وتناقص قدرتها على الإنتاج. (.....)

## نموذج (٣)

### السؤال الأول

اختر الإجابة الصحيحة مما بين القوسين:

- ١ تمتد هضبة إفريقيا الشمالية من جبال البحر الأحمر إلى المحيط .....  
(الهادى - الهندى - الأطلنطى - القطبى)
- ٢ دائرة عرض تمر جنوب الوطن العربى .....  
(جرينتش - السرطان - الجدى - الاستواء)
- ٣ تنتشر النباتات التى لها قدرة على تحمل الجفاف فى الإقليم المناخى .....  
(الصحراوى - المدارى - الموسمى - البحر المتوسط)
- ٤ دولة تعانى من أكبر موجة جفاف فى وطننا العربى هى .....  
(الصومال - السودان - مصر - الجزائر)
- ٥ يعانى نحو ..... مساحة الوطن العربى من مشكلة التصحر.  
(ثلث - ثلثى - ربع - نصف)

### السؤال الثانى

(١) اكتب كلمة (صواب) أمام العبارة الصحيحة، وكلمة (خطأ) أمام العبارة غير الصحيحة:

- ١ يوجد فى وطننا العربى جبال التوائية فقط. ( )
- ٢ يتشابه مناخ الأودية والسهول مع مناخ المناطق المرتفعة. ( )
- ٣ تربي الماعز والأغنام فى الإقليم المدارى. ( )

(ب) بم تفسر...؟

١ أهمية المحميات الطبيعية.

٢ مشاركة الدول العربية فى مؤتمر المناخ للأمم المتحدة عام ٢٠٢٢م.

### السؤال الثالث

(١) أكمل العبارات الآتية:

- ١ توجد جبال البحر الأحمر فى الوطن العربى فى دولة ..... ودولة .....
- ٢ الرياح الباردة تهب على الوطن العربى من أوروبا و .....
- ٣ إقليم مناخى يتميز بشتاء معتدل جاف وصيف حار هو إقليم .....
- ٤ أطلقت المملكة العربية السعودية مبادرة لزيادة المساحات الخضراء عن طريق مدينة ..... عام ٢٠٢٢م.

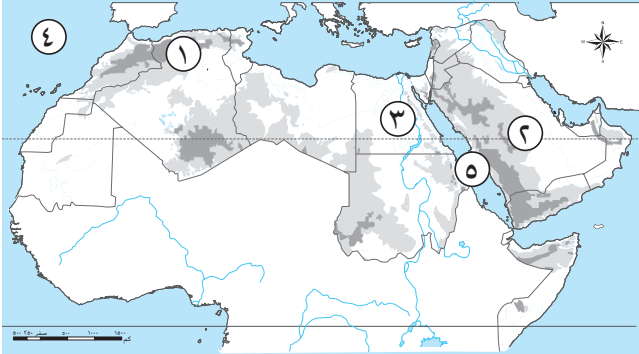
(ب) ما النتائج المترتبة على ...؟

- ظهور مشكلة التغير المناخى فى الوطن العربى.

## نموذج (٤)

### السؤال الأول

أمامك خريطة صماء لوطننا العربي. اكتب مدلول الأرقام التالية:



- ١ جبال .....
- ٢ هضبة .....
- ٣ نهر .....
- ٤ المحيط .....
- ٥ البحر .....

### السؤال الثاني

اكتب كلمة (صواب) أمام العبارة الصحيحة، وكلمة (خطأ) أمام العبارة غير الصحيحة:

- ١ تكونت بعض الأودية الجافة نتيجة لحركات باطنية تعرضت لها الأرض. ( )
- ٢ المسطحات المائية تعمل على تلطيف درجات الحرارة. ( )
- ٣ تنمو حشائش السافانا في إقليم البحر المتوسط. ( )
- ٤ تعاني معظم الدول العربية من ندرة المياه المالحة. ( )
- ٥ تحتفل الدول العربية باليوم العربي للبيئة في ١٤ أكتوبر من كل عام. ( )

### السؤال الثالث

صوب ما تحته خط:

- ١ توجد أعلى نقطة في وطننا العربي في الجناح الآسيوي.
- ٢ درجات الحرارة وكمية الأمطار تتشابه بين دول الوطن العربي.
- ٣ تنمو حشائش السافانا بالإقليم الصحراوي بالوطن العربي.
- ٤ يمتد إقليم البحر المتوسط في الجزء الجنوبي الغربي من شبه الجزيرة العربية.
- ٥ يتعرض كثير من الدول العربية لخطر الجفاف مثل الهند.

## نموذج (هـ)

### السؤال الأول

أكمل العبارات الآتية:

- ١ يمتد في الجناح الآسيوي للوطن العربي سهول نهري ..... و.....
- ٢ تمردائرة الاستواء ..... الوطن العربي.
- ٣ تقع محمية جبل علبة بدولة .....
- ٤ ظهرت في الوطن العربي مشكلات بيئية عديدة نتيجة للتغير المناخي مثل .....
- ٥ أطلقت ..... مبادرة لزيادة المساحات الخضراء عن طريق مدينة نيوم الخضراء عام ٢٠٢٢م.

### السؤال الثاني

اكتب كلمة (صواب) أمام العبارة الصحيحة ، وكلمة (خطأ) أمام العبارة غير الصحيحة:

- ١ توجد جبال أطلس في الجناح الآسيوي للوطن العربي. ( )
- ٢ تتشابه درجات الحرارة بين دول الوطن العربي. ( )
- ٣ يقل المدى الحراري في معظم الصحاري الكبرى بالوطن العربي. ( )
- ٤ التغير المناخي من المشكلات البيئية في وطننا العربي. ( )
- ٥ تناقص مخزون المياه الجوفية يؤدي إلى حدوث التصحر. ( )

### السؤال الثالث

(١) اكتب ما تشير إليه العبارات الآتية:

- ١ إقليم مناخي يمتد من الخليج العربي شرقاً حتى ساحل موريتانيا غرباً. (.....)
- ٢ المدينة المصرية الحاصلة على لقب عاصمة المدن العربية لعام ٢٠٢٢ م. (.....)
- ٣ دولة أنشأت مشروع صناعة الأخشاب من مخلفات النخيل لأول مرة في العالم. (.....)

(ب) بم تفسر...؟

- ١ يعيش بعض السكان في الواحات بالوطن العربي.

- ٢ ارتفاع درجة الحرارة في المناطق الجنوبية للوطن العربي.

## إجابة نموذج (١)

### السؤال الأول

(١)

- ١ جبال البحر الأحمر.
- ٢ نجد.
- ٣ صالح.
- ٤ مدارى.

(ب) إعاقة قيام الموانئ كما في سواحل البحر الأحمر.

### السؤال الثانى

- ١ لبنان.
- ٢ ثلاثة.
- ٣ المناطق الجبلية.
- ٤ عمان.
- ٥ الصيف.

### السؤال الثالث

- ١ (خطأ)
- ٢ (خطأ)
- ٣ (صواب)
- ٤ (خطأ)
- ٥ (صواب)

## إجابة نموذج (٢)

### السؤال الأول

- ١ الالتوائية ، الانكسارية.
- ٢ صحراوي حار.
- ٣ الأرز ، الزيتون.
- ٤ شرم الشيخ.
- ٥ الجبال.

### السؤال الثاني

- ١ (صواب)
- ٢ (صواب)
- ٣ (خطأ)
- ٤ (خطأ)
- ٥ (صواب)

### السؤال الثالث

- ١ الجبال الالتوائية.
- ٢ إقليم مناخي.
- ٣ إقليم البحر المتوسط.
- ٤ جفاف.
- ٥ التصحر.

## إجابة نموذج (٣)

### السؤال الأول

- ١ الأطلنطي.
- ٢ الاستواء.
- ٣ الصحراوي.
- ٤ الصومال.
- ٥ ثلثي.

### السؤال الثاني

(١)

- ١ (خطأ)
- ٢ (خطأ)
- ٣ (خطأ)

- (ب) ١ - تساعد في الحفاظ على الحياة البرية بما تتضمنه من نباتات طبيعية وحيوانات برية.
- تنشيط السياحة وجذب السياح.
- تساعد في تحقيق التوازن البيئي والحد من التلوث تحقيقاً للتنمية المستدامة.
- ٢ مناقشة قضية التغير المناخي، وما يترتب عليها من مشكلات تؤثر على البيئة.

### السؤال الثالث

(١)

- ١ مصر - السودان.
- ٢ آسيا.
- ٣ المداري.
- ٤ نيوم الخضراء.

(ب) اتجهت الدول العربية إلى التوقيع على الاتفاقيات الدولية، واستضافة المؤتمرات العالمية الخاصة بالتغير المناخي؛ لما لهذه الظاهرة من آثار عليه، بالإضافة إلى تبني المشروعات الخضراء.



## إجابة نموذج (٤)

### السؤال الأول

- ١ أطلس.
- ٢ نجد.
- ٣ النيل.
- ٤ الأطلنطي.
- ٥ الأحمر.

### السؤال الثاني

- ١ (خطأ)
- ٢ (صواب)
- ٣ (خطأ)
- ٤ (خطأ)
- ٥ (صواب)

### السؤال الثالث

- ١ الإفريقي.
- ٢ تختلف.
- ٣ المدارى.
- ٤ الصحراوى.
- ٥ الصومال.

## إجابة نموذج (هـ)

### السؤال الأول

- ١ دجلة والفرات.
- ٢ جنوب.
- ٣ مصر.
- ٤ التصحر.
- ٥ السعودية.

### السؤال الثاني

- ١ (خطأ)
- ٢ (خطأ)
- ٣ (خطأ)
- ٤ (صواب)
- ٥ (صواب)

### السؤال الثالث

( أ )

- ١ الصحراوي الحار.
- ٢ شرم الشيخ.
- ٣ مصر.

( ب )

- ١ بسبب قيام الزراعة اعتمادًا على المياه الجوفية.
- ٢ بسبب اقترابها من خط الاستواء.

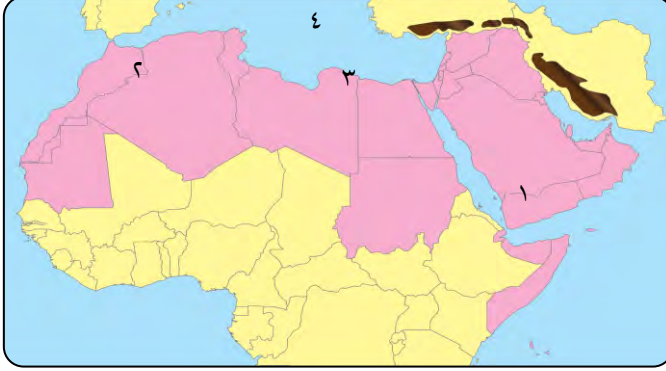


## الاختبار الأول



مخاب منه

١ (أ) أمامك خريطة صماء للوطن العربي. اكتب مدلول الأرقام التالية :



- ١- هضبة .....
- ٢- جبال .....
- ٣- إقليم .....
- ٤- البحر .....

(ب) ددل على صحة العبارات الآتية :

١- تتنوع السهول في الوطن العربي .

.....

٢- تؤثر مظاهر السطح على المناخ في الوطن العربي .

.....

٢ (أ) أكمل العبارات التالية بكلمات مناسبة :

- ١- نشأت جبال البحر الأحمر نتيجة حركات .....
- ٢- يسود معظم أنحاء الوطن العربي المناخ .....
- ٣- حركة مياه المحيطات والبحار تسمى .....
- ٤- تكونت التجمعات الرملية بفعل .....

(ب) بم تفسر ... ؟

١- يقل تأثير المسطحات المائية مناخياً على الوطن العربي .

.....

٢- أهمية الأودية الجافة .

.....

٣ (أ) اكتب كلمة (صح) أمام العبارة الصحيحة وكلمة (خطأ) أمام العبارة غير الصحيحة :

- ١- يؤدي سوء الأحوال المناخية إلى تأجيل أو إلغاء الرحلات الجوية . ( )
- ٢- ترتفع درجات الحرارة كلما اتجهنا شمال الوطن العربي . ( )
- ٣- تقع هضبة بادية الشام وسط شبه الجزيرة العربية . ( )

(ب) حدد أوجه التشابه والاختلاف بين :

- جبال البحر الأحمر - جبال أطلس .

وجه المقارنة	جبال البحر الأحمر	جبال أطلس
التشابه	.....	.....
الاختلاف	.....	.....

٤ (أ) اكتب ما تشير إليه العبارات التالية :

- ١- سهول كونتها الأنهار نتيجة ترسيب المواد العالقة بمياهها. (.....)
- ٢- منطقة جغرافية من سطح الأرض تتسم بخصائص مناخية تميزها عن غيرها. (.....)
- ٣- مساحة من الأرض أو المياه يتم إنشاؤها للحفاظ على الحياة البرية وتنشيط السياحة. (.....)
- ٤- تدهور الأراضي وتناقص قدرتها على الإنتاج. (.....)

(ب) اذكر:

- جهود الدول العربية في مواجهة المشكلات البيئية.

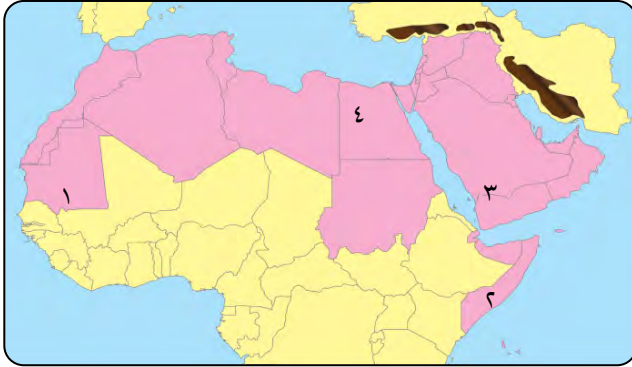
.....



الاختبار الثاني



١ (أ) أمامك خريطة صماء للوطن العربي. اكتب مدلول الأرقام التالية :



- ١- الإقليم .....
- ٢- دولة تعرضت لأكبر موجة جفاف .....
- ٣- هضبة في جنوب الجزيرة العربية .....
- ٤- واحة .....

(ب) ما النتائج المترتبة على ... ؟

١- حدوث الحركات الانكسارية .

٢- اهتمام الدولة بإنشاء المحميات الطبيعية .

٢ (أ) اختر الإجابة الصحيحة مما بين القوسين :

- ١- تعتمد الواحات في الزراعة على ..... ( البحار - الأمطار الشتوية - المياه الجوفية - الأنهار )
- ٢- تكونت جبال أطلس نتيجة ..... ( التعرية المائية - التعرية الهوائية - الحركات الانكسارية - الحركات الالتوائية )
- ٣- تسقط أمطار موسمية صيفية على دولة ..... ( لبنان - تونس - سوريا - اليمن )
- ٤- أول هجرة للمسلمين كانت إلى ..... ( الحبشة - الطائف - بلاد الشام - بلاد فارس )

(ب) بم تفسر ... ؟

١- مناخ مدينة الإسكندرية أكثر اعتدالاً من مناخ مدينة الرياض .

٢- صعوبة إقامة الموانئ على ساحل البحر الأحمر .

٣ (أ) صوب ما تحته خط :

- ١- تنخفض درجات الحرارة فوق الجبال فيتكون الرمال . ( .....
- ٢- يسود المناخ المعتدل في المناطق الجنوبية من الوطن العربي . ( .....
- ٣- تقع هضبة نجد في الجناح الإفريقي . ( .....

(ب) ماذا يحدث إذا ؟

- ١- لم يتعرض الوطن العربي لحركات التوائية .....
- ٢- سقطت الأمطار بغزارة صيفاً على الإقليم الصحراوي .....

٤ (أ) أكمل العبارات التالية بكلمات مناسبة:

- ١- ينمو نبات الصبار في الإقليم .....
- ٢- تقع محمية ضانا في دولة .....
- ٣- يتميز إقليم البحر المتوسط بمناخ .....
- ٤- من المشكلات البيئية التي تواجه الوطن العربي ..... و.....

(ب) قارن بين :

- السهول الساحلية للبحر المتوسط والسهول الساحلية للبحر الأحمر في الوطن العربي من حيث أهميتها.

وجه المقارنة	السهول الساحلية للبحر المتوسط	السهول الساحلية للبحر الأحمر
أهميتها	.....	.....
	.....	.....
	.....	.....



## إجابة الاختبار الأول

١ (أ) أمامك خريطة صماء للوطن العربي. اكتب مدلول الأرقام التالية :

- ١- حضر موت. ٢- أطلس. ٣- البحر المتوسط. ٤- المتوسط.

(ب) دلل على صحة العبارات الآتية :

- ١- لوجود السهول الفيضية في مصر والسودان في نهر النيل وفي العراق سهول دجلة والفرات بالإضافة إلى السهول الساحلية للوطن العربي على الخليج العربي والمحيط الأطلنطي والسهول الساحلية للبحر المتوسط والبحر الأحمر الغنية بالثروات المعدنية.  
٢- حيث يختلف مناخ المناطق المرتفعة في الوطن العربي عن مناخ الأودية والسهول حيث تتأثر المناطق المرتفعة بعاملين أساسيين هما (عامل الارتفاع - اتجاه المرتفعات).

٢ (أ) أكمل العبارات التالية بكلمات مناسبة:

- ١- الانكسارية. ٢- الصحراوي الحار. ٣- التيارات البحرية. ٤- التعرية الهوائية.

(ب) بم تفسر ... ؟

- ١- بسبب : ١- ضيق مساحة المسطحات المائية.  
٢- عدم توغلها إلى الداخل لوجود صحارى ومرتفعات قريبة من السواحل.  
٢- لأنها تستخدم كطرق للمواصلات أو للحصول على المياه الجوفية.

٣ (أ) اكتب كلمة ( صح ) أمام العبارة الصحيحة وكلمة ( خطأ ) أمام العبارة غير الصحيحة:

- ١- (صح). ٢- (خطأ). ٣- (خطأ).

(ب) حدد أوجه التشابه والاختلاف بين :

وجه المقارنة	جبال البحر الأحمر	جبال أطلس
التشابه	تقع جبال البحر الأحمر وجبال أطلس في الجناح الإفريقي.	
الاختلاف	تكونت جبال البحر الأحمر من الحركات الانكسارية.	تكونت جبال أطلس من الحركات الالتوائية.

٤ (أ) اكتب ما تشير إليه العبارات التالية :

- ١- سهول فيضية. ٢- إقليم مناخي. ٣- المحمية الطبيعية. ٤- التصحر.

(ب) اذكر:

جهود الدول العربية لحل المشكلات البيئية :

- ١- إقامة مساكن لاستقرار الرعاة.  
٢- إصدار القوانين التي تجرم القطع العشوائي للأشجار.  
٣- الاهتمام باستخدام مصادر الطاقة المتجددة.  
٤- إنشاء المدن الذكية لتقليل الغازات الدفينة.



## إجابة الاختبار الثاني

١ (أ) أمامك خريطة صماء للوطن العربي. اكتب مدلول الأرقام التالية :

- ١- المدارى .  
٢- الصومال .  
٣- حضر موت .  
٤- سيوة .

(ب) ما النتائج المترتبة على ...؟

- ١- أدى إلى : تكون الجبال الانكسارية في الوطن العربي مثل جبال البحر الأحمر وجبال الشام .  
٢- أدى إلى : الحفاظ على الحياة البرية وحمايتها من الانقراض .

٢ (أ) اختر الإجابة الصحيحة مما بين القوسين :

- ١- المياه الجوفية .  
٢- الحركات الإلتوائية .  
٣- اليمن .  
٤- الحبشة .

(ب) بم تفسر ...؟

- ١- بسبب قربها من المسطحات المائية (البحر المتوسط) الذى يعمل على تلطيف درجة حرارة الجو .

- ٢- لوجود الشعاب المرجانية على طول سواحل البحر الأحمر .

٣ (أ) صوب ما تحته خط :

- ١- الثلوج .  
٢- الشمالية .  
٣- إفريقيا الشمالية .

(ب) ماذا يحدث إذا ؟

- ١- لم تتكون الجبال الإلتوائية المختلفة مثل جبال أطلس وكردستان وزاجروس وعمان .

- ٢- يتنوع النبات الطبيعي في الصحراء ولن يقتصر على النباتات الصحراوية .

٤ (أ) أكمل العبارات التالية بكلمات مناسبة :

- ١- الصحراوي .  
٢- الأردن .  
٣- حار جاف صيفاً ودافئ ممطر شتاءً .

- ٤- التصحر والجفاف .

(ب) قارن بين :

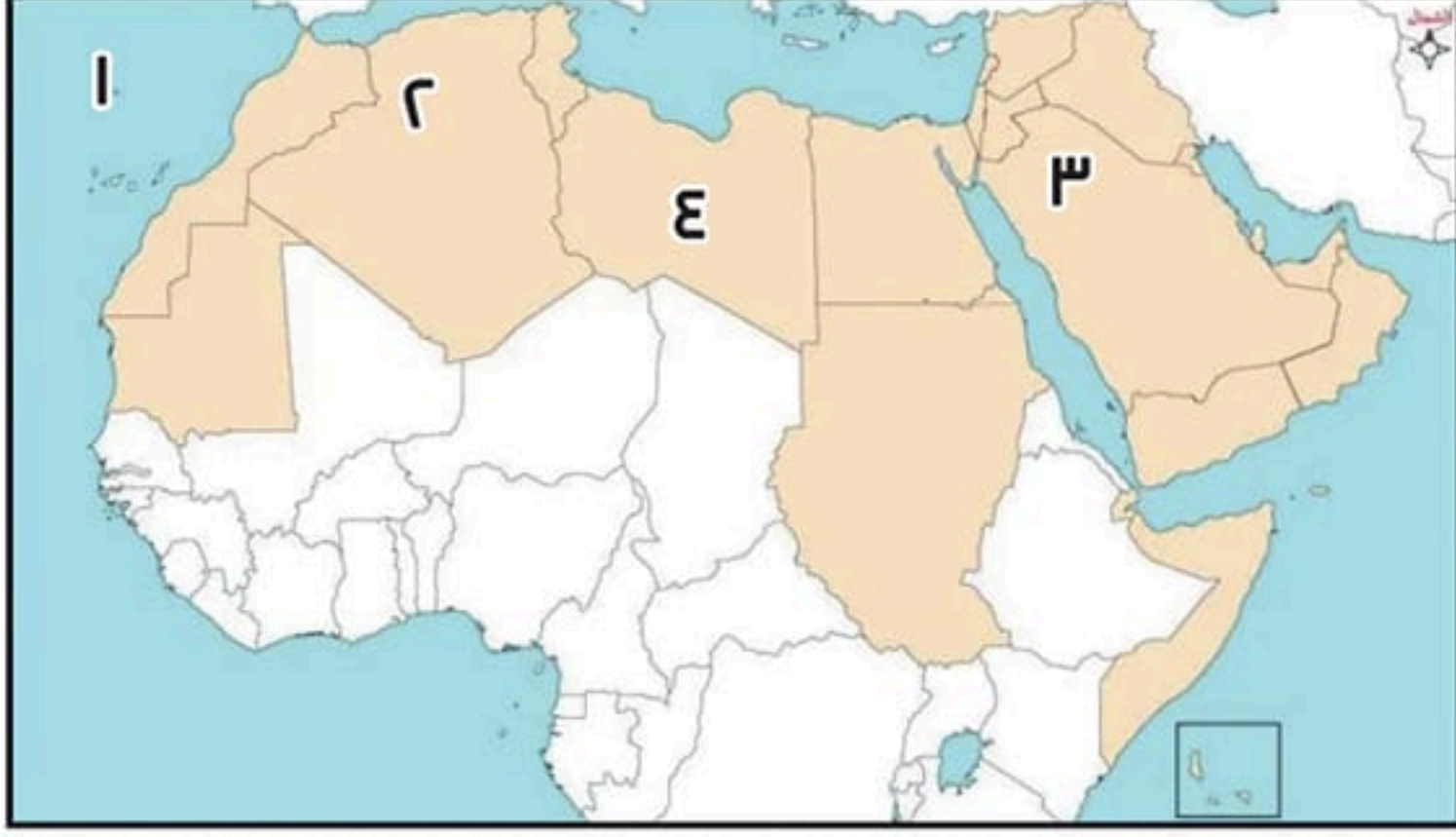
وجه المقارنة	السهول الساحلية للبحر المتوسط	السهول الساحلية للبحر الأحمر
أهميتها	<ul style="list-style-type: none"> <li>- أمطارها شتوية .</li> <li>- كثرة السكان .</li> <li>- سهولة الانتقال على طول امتدادها .</li> </ul>	<ul style="list-style-type: none"> <li>- غنية بالثروات المعدنية ومصادر الطاقة .</li> <li>- قليلة الكثبان الرملية وقليلة السكان .</li> <li>- تربتها رملية فقيرة .</li> <li>- وجود الشعاب المرجانية التي تعوق قيام الموانئ .</li> </ul>





# اختبار الباهر

١ أمامك خريطة صماء للوطن العربي، اكتب ما تدل عليه الأرقام الآتية:



- ١ المحيط .....
- ٢ جبال .....
- ٣ هضبة .....
- ٤ واحة .....

٢ اكتب كلمة (صواب) أمام العبارة الصحيحة، وكلمة (خطأ) أمام العبارة غير الصحيحة:

- ١ يوجد وادي الجريير في مصر. (.....)
- ٢ هضبة إفريقيا الشمالية من أكبر الظاهرات التضاريسية مساحة في الوطن العربي. (.....)
- ٣ توجد محمية جبل علبة في مصر. (.....)
- ٤ تنمو حشائش الإستبس في الإقليم المداري. (.....)

٣ اختر الإجابة الصحيحة مما بين القوسين:

- ١ يوجد بحر الرمال العظيم بين مصر و ..... ( تونس - السودان - ليبيا - المغرب )
- ٢ توجد جبال ..... في مصر والسودان. ( البحر الأحمر - الحجاز - عسير - اليمن )
- ٣ يسود المناخ المعتدل الأجزاء ..... من الوطن العربي. ( الشمالية - الجنوبية - الشرقية - الغربية )
- ٤ توجد محمية ضانا في دولة ..... ( الأردن - مصر - لبنان - سوريا )

٤ فسر العبارات الآتية:

١ حدوث التصحر.

٢ يسود المناخ الحار معظم أجزاء الوطن العربي.

٣ ضعف تأثير المسطحات المائية في الوطن العربي بشكل عام.

٤ قلة أهمية السهول الساحلية في البحر الأحمر.

## اختبار الباهر ٢

### ١ أكمل العبارات الآتية:

- ١ من المشكلات البيئية في الوطن العربي ..... و ..... و .....
- ٢ تعاني دولة ..... من أكبر موجة جفاف.
- ٣ يسود المناخ ..... الأجزاء الشمالية بالوطن العربي.
- ٤ نشأت الجبال ..... نتيجة حركات باطنية.

### ٢ صوّب ما تحته خط:

- ١ عقد مؤتمر المناخ للأمم المتحدة في مدينة الأقصر في مصر عام ٢٠٢٢ م. (.....)
- ٢ من أسباب حدوث الجفاف زحف الكثبان الرملية. (.....)
- ٣ تمرد دائرة الإستواء شمال الوطن العربي. (.....)
- ٤ المناطق الساحلية أقل اعتدالاً من المناطق الداخلة. (.....)

### ٣ اكتب كلمة (صواب) أمام العبارة الصحيحة، وكلمة (خطأ) أمام العبارة غير الصحيحة:

- ١ المشكلات البيئية تهدد صحة المواطن العربي. (.....)
- ٢ التيارات البحرية الدفيئة ترفع درجة حرارة السواحل. (.....)
- ٣ توجد الشعاب المرجانية في سهول البحر الأحمر. (.....)
- ٤ تنمو حشائش السافانا في الإقليم المداري. (.....)

### ٤ ما النتائج المترتبة على....؟

- ١ تنوع الأقاليم المناخية في الوطن العربي .

.....

- ٢ تعامد الشمس على مدار السرطان.

.....

- ٣ امتداد الوطن العربي في قارتي آسيا وإفريقيا واقتربه من أوروبا مناخياً .

.....



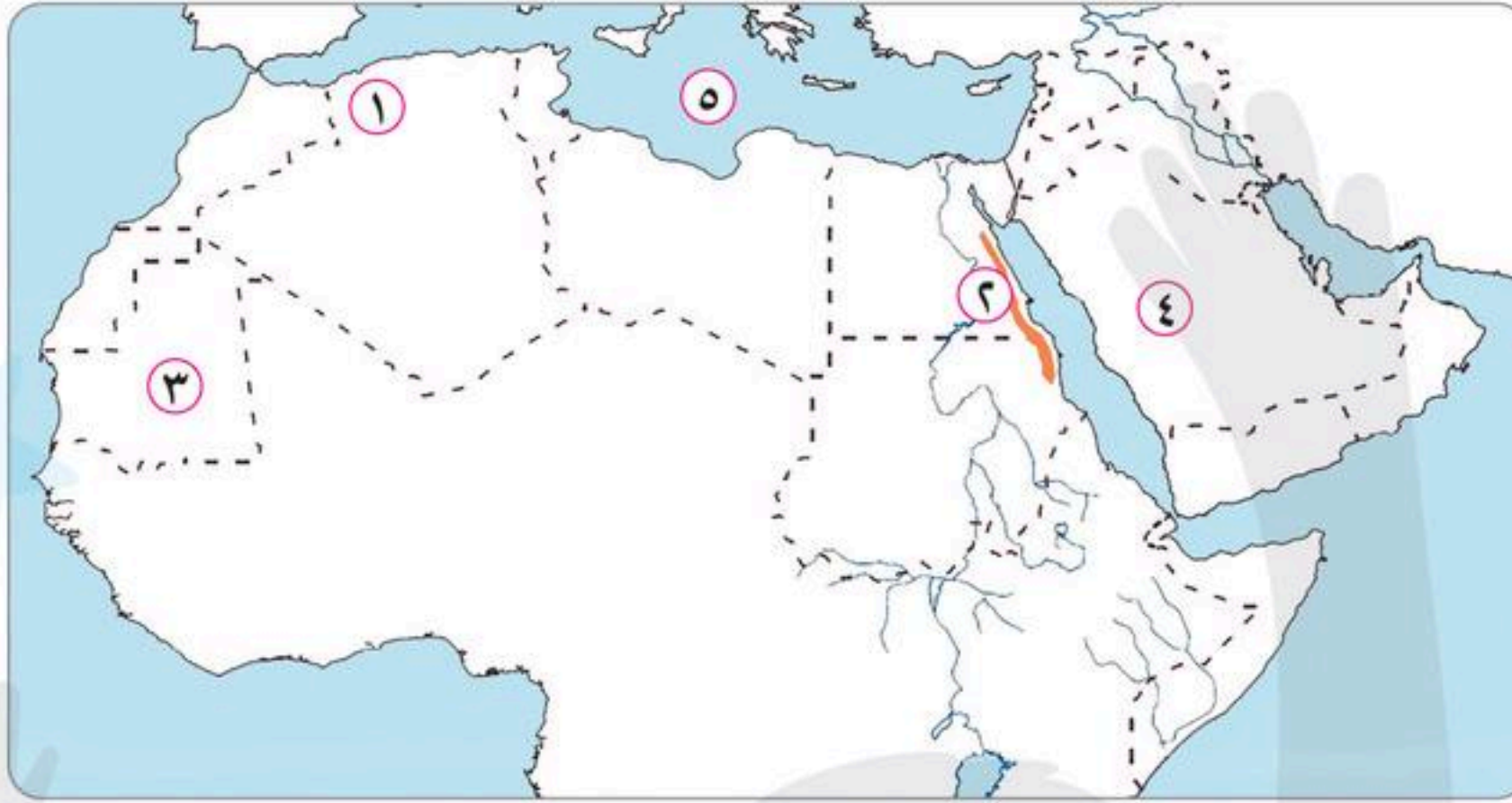
## اختبار الشاطر على الوحدة الثانية

٣٠

(يجيب عنه التلميذ)

**السؤال الأول :** أمامك خريطة صماء للوطن العربي ، وضح مدلول الأرقام التي عليها :

٥



١ إقليم مناخي

٢ جبال

٣ إقليم مناخي

٤ هضبة

٥ مسطح مائي

**السؤال الثاني :** أكمل العبارات الآتية بكلمات مناسبة :

٥

١ توجد واحة عين صالح في .....

٢ من أسباب التصحر .....

٣ تنمو حشائش ..... في الإقليم المداري .

٤ ترعى الأغنام والماعز على حشائش ..... في إقليم البحر المتوسط .

٥ تتميز سهول البحر الأحمر والخليج العربي بغناها بـ ..... و .....

**السؤال الثالث :** صوب ما تحته خط :

٥

١ توجد هضبة بادية الشام في الجناح العربي الإفريقي .

٢ يوجد وادي الجرير في فلسطين .

٣ من أشجار الإقليم الصحراوي الأرز والزيتون .

٤ محمية جبل عُلبة إحدى المحميات بدولة الإمارات .

٥ توجد قمة جبل توبقال في تونس .

**السؤال الرابع :** اكتب ما تشير إليه كل عبارة مما يلي :

٥

١ حركة مياه البحار والمحيطات .

٢ نقص كمية الأمطار في بعض السنوات بما لا يسمح بالزراعة

أو نمو الحشائش .

٣ تدهور الأراضي الزراعية وتناقص قدرتها على الإنتاج .

- ٤ مجموعة من التكوينات الرملية تمتد بين مصر وليبيا .  
(.....)
- ٥ تعيق إقامة الموانئ في البحر الأحمر .  
(.....)



### السؤال الخامس : اختر الإجابة الصحيحة من بين الإجابات الآتية :

- ١ توجد محمية أرز الشوف في :  
أ مصر      ب لبنان      ج الأردن      د سوريا
- ٢ تتعامد الشمس على مدار السرطان فيحدث فصل ..... بالوطن العربي .  
أ الشتاء      ب الربيع      ج الخريف      د الصيف
- ٣ أمطار الإقليم المداري تكون :  
أ صيفية      ب شتوية      ج طوال العام      د خريفية
- ٤ من الحيوانات التي تعيش في الإقليم الصحراوي :  
أ الفيلة      ب الأسود      ج الزراف      د الزواحف
- ٥ ينتمي شمال إفريقيا لمناخ :  
أ إقليم البحر المتوسط      ب الإقليم الصحراوي  
ج الإقليم المداري      د الإقليم الاستوائي



### السؤال السادس : أجب عما يلي :

- ١ بم تفسر ... ؟  
● أهمية الأودية الجافة .
- ٢ ما العلاقة بين ... ؟  
● المناخ والرحلات الجوية .
- ٣ ما النتائج المترتبة على ... ؟  
● التعرية المائية .
- ٤ اذكر العوامل المؤثرة في مناخ الوطن العربي .
- ٥ ما رأيك في ... ؟  
● مشروع مدينة نيوم .

## الإجابات النموذجية

إجابة اختبار  
الشاطر على الوحدة الثانية

## السؤال الأول :

- ١ البحر المتوسط  
٢ البحر الأحمر  
٣ المداري  
٤ نجد  
٥ البحر المتوسط

## السؤال الثاني :

- ١ الجزائر  
٢ الإفراط في استخدام الأسمدة الكيماوية  
٣ السافانا  
٤ الأستبس  
٥ المعادن ومصادر الطاقة

## السؤال الثالث :

- ١ أفريقيا الشمالية  
٢ السعودية  
٣ إقليم البحر المتوسط  
٤ مصر  
٥ المغرب

## السؤال الرابع :

- ١ التيارات البحرية  
٢ الجفاف  
٣ التصحر  
٤ بحر الرمال العظيم  
٥ الشعاب المرجانية

## السؤال الخامس :

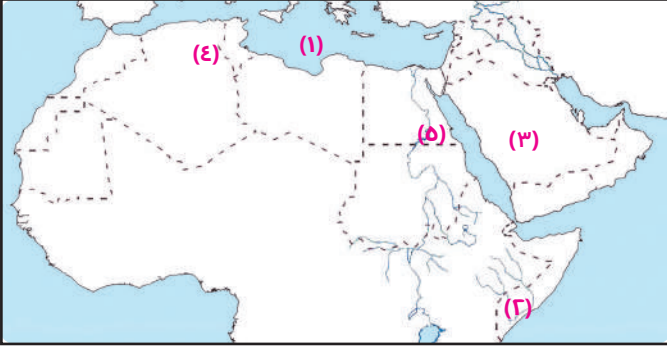
- ١ لبنان  
٢ الصيف  
٣ صيفية  
٤ الزواحف  
٥ إقليم البحر المتوسط

## السؤال السادس : متروك الإجابة للطالب

# نموذج

٥ درجات

أمامك خريطة صماء للوطن العربي، اكتب ما تدل عليه الأرقام:



س ١

- ١ البحر .....
- ٢ إقليم مناخي .....
- ٣ هضبة .....
- ٤ إقليم مناخي .....
- ٥ جبال .....

٥ درجات

أكمل العبارات الآتية بكلمات مناسبة:

س ٢

- ١ يوجد وادي الجريير في .....
- ٢ تنمو أشجار الأرز في إقليم .....
- ٣ تنمو حشائش ..... في الإقليم المداري
- ٤ تعيش الزواحف في الإقليم .....
- ٥ تتميز سهول البحر الأحمر والخليج العربي بغناها بـ ..... و .....

٥ درجات

ضع كلمة "صح" أمام العبارة الصحيحة وكلمة "خطأ" أمام العبارة غير الصحيحة:

س ٣

- ١ توجد محمية جبل غلبة في مصر. (.....)
- ٢ من هضاب الجناح الإفريقي هضبة بادية الشام. (.....)
- ٣ تعرضت الصومال لأكبر موجه جفاف في الوطن العربي. (.....)
- ٤ محمية ضانا إحدى المحميات بدولة الإمارات. (.....)
- ٥ توجد قمة جبل توبقال في المغرب. (.....)

٥ درجات

اكتب ما تشير إليه كل عبارة مما يلي:

س ٤

- ١ منطقة جغرافية من سطح الأرض تتسم بخصائص مناخية تميزها عن غيرها. (.....)
- ٢ نقص كمية الأمطار في بعض السنوات بما لا يسمح بالزراعة أو نمو الحشائش. (.....)
- ٣ تدهور الأراضي الزراعية وتناقص قدرتها على الإنتاج. (.....)
- ٤ مجموعة من التكوينات الرملية تمتد بين مصر وليبيا. (.....)
- ٥ حركة مياه البحار والمحيطات. (.....)

( مصر - لبنان - الأردن - سوريا )

١ توجد محمية أرز الشوف في .....

٢ تتعامد الشمس على مدار السرطان فيحدث فصل ..... بالوطن العربي.

( الشتاء - الربيع - الخريف - الصيف )

٣ أمطار الإقليم المداري تكون .....

( صيفية - شتوية - طوال العام - خريفية )

٤ من الحيوانات التي تعيش في الإقليم الصحراوي .....

( الفيلة - الأسود - الزراف - ثعلب الصحراء )

٥ ينتمي جنوب الوطن العربي إلى .....

( إقليم البحر المتوسط - الإقليم الصحراوي - الإقليم المداري - الإقليم الإستوائي )

١ بم تفسر: - أهمية الأودية الجافة؟

- أهمية المحميات الطبيعية؟

٢ ما العلاقة بين: المناخ والرحلات الجوية؟

٣ ما النتائج المترتبة على: التعرية الهوائية؟

٤ اذكر العوامل المؤثرة في مناخ الوطن العربي.



١٥١ أمامك خريطة صفاء للوطن العربي، اكتب ما تدل عليه الأرقام:

- ١ المتوسط  
٢ المداري  
٣ نجد  
٤ البحر المتوسط  
٥ البحر الأحمر

١٥٢ أكمل العبارات الآتية بكلمات مناسبة:

- ١ السعودية  
٢ البحر المتوسط  
٣ السافانا  
٤ الصحراوي  
٥ المعادن ، مصادر الطاقة

١٥٣ ضع كلمة "صح" أمام العبارة الصحيحة وكلمة "خطأ" أمام العبارة غير الصحيحة:

- ١ صح  
٢ خطأ  
٣ صح  
٤ خطأ  
٥ صح

١٥٤ اكتب ما تشير إليه كل عبارة مما يلي:

- ١ الإقليم المناخي  
٢ الجفاف  
٣ التصحر  
٤ بحر الرمال العظيم  
٥ التيارات البحرية

١٥٥ أكمل العبارات الآتية بكلمات مناسبة:

- ١ لبنان  
٢ الصيف  
٣ صيفية  
٤ ثعلب الصحراء  
٥ الإقليم المداري

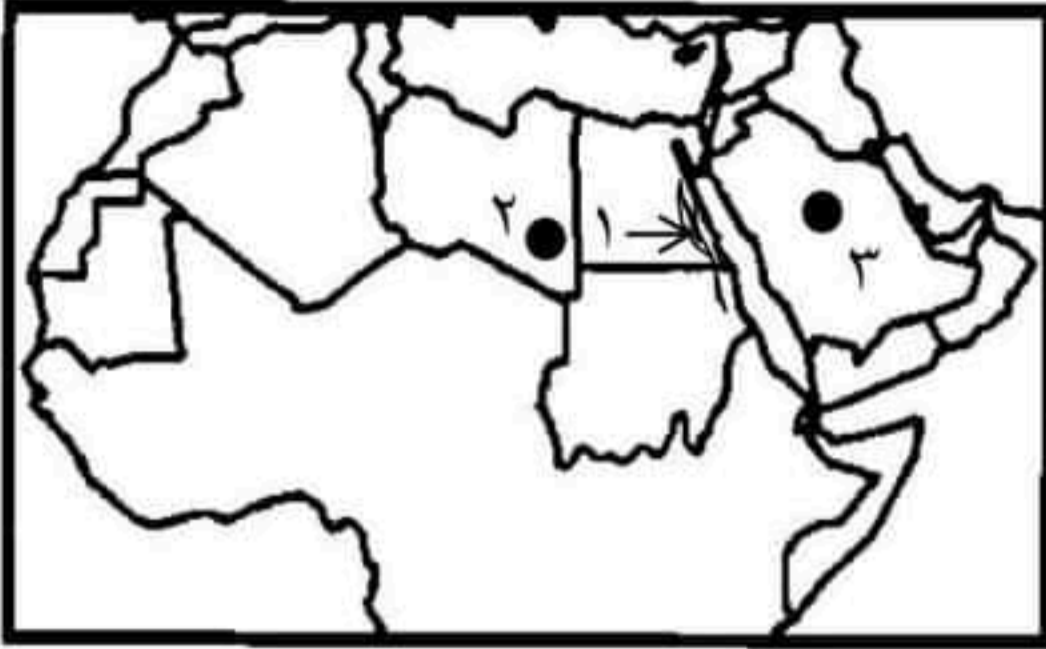
١٥٦ أجب عما يلي:

متروك للطالب



اختبار شهر نوفمبر للعام الدراسي ٢٠٢٣ - ٢٠٢٤ م

السؤال الأول : أ ) أمامك خريطة صماء للوطن العربي أكتب مدلول الأرقام الآتية :



- ١- جبال انكسارية تمتد في مصر والسودان .....
- ٢- واحه موجودة بدولة ليبيا .....
- ٣- دولة أعلنت إنشاء مدينة نيوم الخضراء .....

ب) بم تفسر :

- ١- أهمية السهول الفيضية بوادي النيل في مصر والسودان؟  
.....  
.....
- ٢- يسود المناخ المعتدل في الاجزاء الشمالية من الوطن العربي ؟  
.....  
.....

السؤال الثاني : أكتب كلمة ( صواب ) أو ( خطأ ) أمام العبارات الآتية :

- ١- التيارات البحرية الدفينة ترفع درجة حرارة السواحل التي تمر بها . ( )
- ٢- إقليم البحر المتوسط حار جاف صيفاً دفي ممطر شتاءً . ( )
- ٣- الجفاف هو نقص كمية الامطار في بعض السنوات بما لا يسمح بالزراعة أو نمو الحشائش. ( )
- ٤- توفي النبي محمد (ص) في العام الثاني عشر من الهجرة . ( )
- ٥- أمر أبو بكر الصديق بجمع القرآن الكريم للمرة الثانية . ( )

السؤال الثالث : أ ) أكمل العبارات الآتية مما بين القوسين:

( السافانا - التصحر - الصومال - الرحلات الجوية )

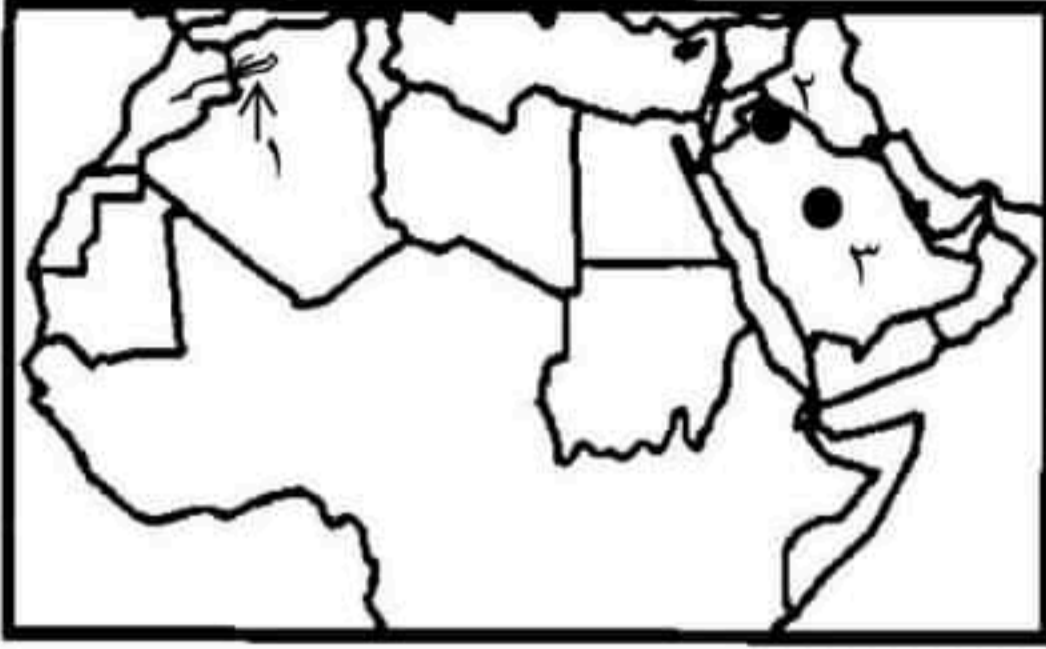
- ١- يؤدي سوء الاحوال الجوية إلى تأجيل أو إلغاء .....
- ٢- تنمو حشائش ..... في الاقليم المداري.
- ٣- تدهور الاراضي الزراعية وتناقص قدرتها على الانتاج يعنى .....
- ٤- الدولة التي يعاني أكثر من مليون شخص فيها لخطر المجاعة هي دولة .....

ب) أكتب المصطلح الجغرافي :

منطقة جغرافية من سطح الارض تتسم بخصائص مناخية تميزها عن غيرها

اختبار شهر نوفمبر للعام الدراسي ٢٠٢٣ - ٢٠٢٤ م

السؤال الأول : أ ) أمامك خريطة صماء للوطن العربي أكتب مدلول الأرقام الآتية :



- ١- جبال التوانية .....
  - ٢- من هضاب الجناح الآسيوي .....
  - ٣- دولة أعلنت مبادرة زراعة ٥٠ مليون شجرة .....
- ب) بم تفسر :
- ١- صعوبة إقامة الموانئ على سواحل البحر الأحمر؟

٢- يقل تأثير المسطحات المائية في الوطن العربي بشكل عام؟

السؤال الثاني : أكتب كلمة ( صواب ) أو ( خطأ ) أمام العبارات الآتية :

- ١- تقل أو تنعدم الأمطار على الجهات الداخلية للمرتفعات . ( )
- ٢- تنمو حشائش الاستبس بالأقليم المداري. ( )
- ٣- تعاني الصومال من أكبر موجة جفاف ومجاعة لأكثر من مليون شخص . ( )
- ٤- ولد النبي محمد "ص" في مكة عام ٥٧٠ م المعروف بعام الفيل. ( )
- ٥- لم يهتم أبو بكر الصديق برعاية الفقراء والمرضى . ( )

السؤال الثالث : أ ) أكمل العبارات الآتية مما بين القوسين:

( الصحراوي الحار - ثلثي - مصر - المناخ )

- ١- يؤثر ..... على كافة الأنشطة البشرية مثل الزراعة والصناعة والصيد .
  - ٢- يعيش أغلب الصحراء والزواحف بالأقليم .....
  - ٣- يعاني نحو ..... مساحة الوطن العربي من مشكلة التصحر .
  - ٤- أطلقت دولة ..... مبادرة زراعة ١٠٠ مليون شجرة مثمرة.
- ب) ما النتائج المترتبة على :

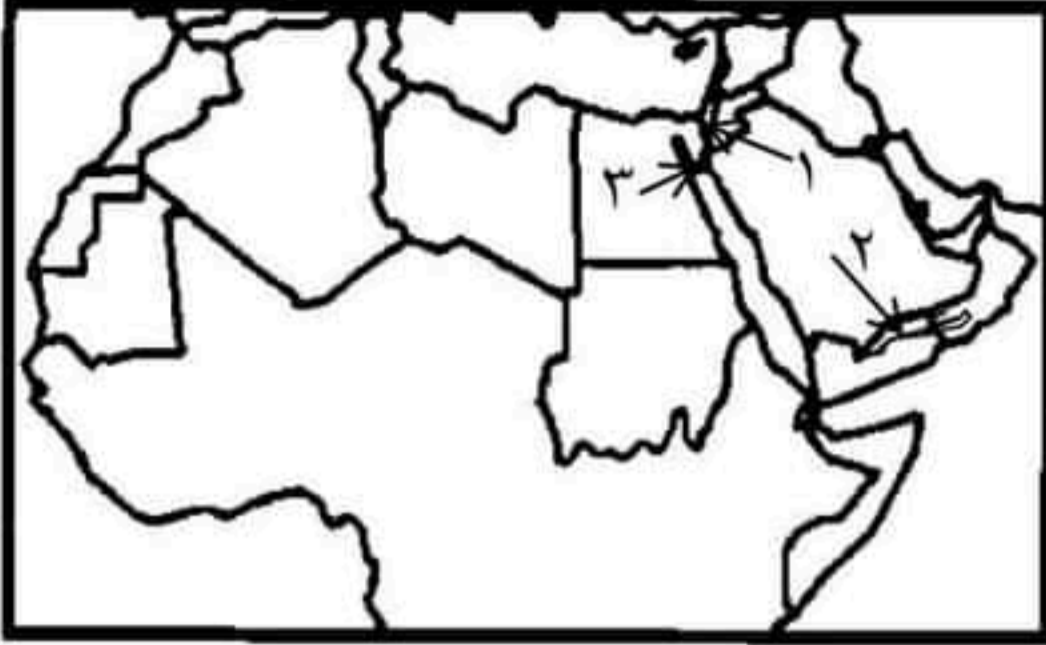
تنوع الأقاليم المناخية في وطننا العربي ؟

المادة / دراسات اجتماعية  
الصف / السادس الابتدائي  
الزمن / فترة دراسية

محافظة .....  
إدارة ..... التعليمية  
مدرسة .....

اختبار شهر نوفمبر للعام الدراسي ٢٠٢٣ - ٢٠٢٤ م

السؤال الأول : أ ) أمامك خريطة صماء للوطن العربي أكتب مدلول الأرقام الآتية :



- ١- أدنى نقطة في الوطن العربي .....
- ٢- من هضاب الجناح الآسيوي . .....
- ٣- مدينة عقد بها مؤتمر المناخ COP27 .....

ب) بم تفسر :

١- أهمية الأودية الجافة التي تكونت بفعل التعرية المائية؟

٢- وجود ثلوج فوق جبال لبنان ؟

السؤال الثاني : أكتب كلمة ( صواب ) أو ( خطأ ) أمام العبارات الآتية :

- ١- تسقط الأمطار بغزارة على منحدرات الجبال المواجهه للرياح المحملة ببخار الماء. ( )
- ٢- يمتد الإقليم الصحراوي بين دائرتي عرض ١٥ و ٣٠ شمالاً . ( )
- ٣- يؤثر التغير المناخي على كمية الأمطار ودرجات الحرارة . ( )
- ٤- كان النبي محمد "ص" يذهب إلى غار "ثور" للتعبد والتأمل . ( )
- ٥- صحب أبو بكر الصديق النبي محمد "ص" في هجرته إلى "مكة" . ( )

السؤال الثالث : أ ) أكمل العبارات الآتية مما بين القوسين:

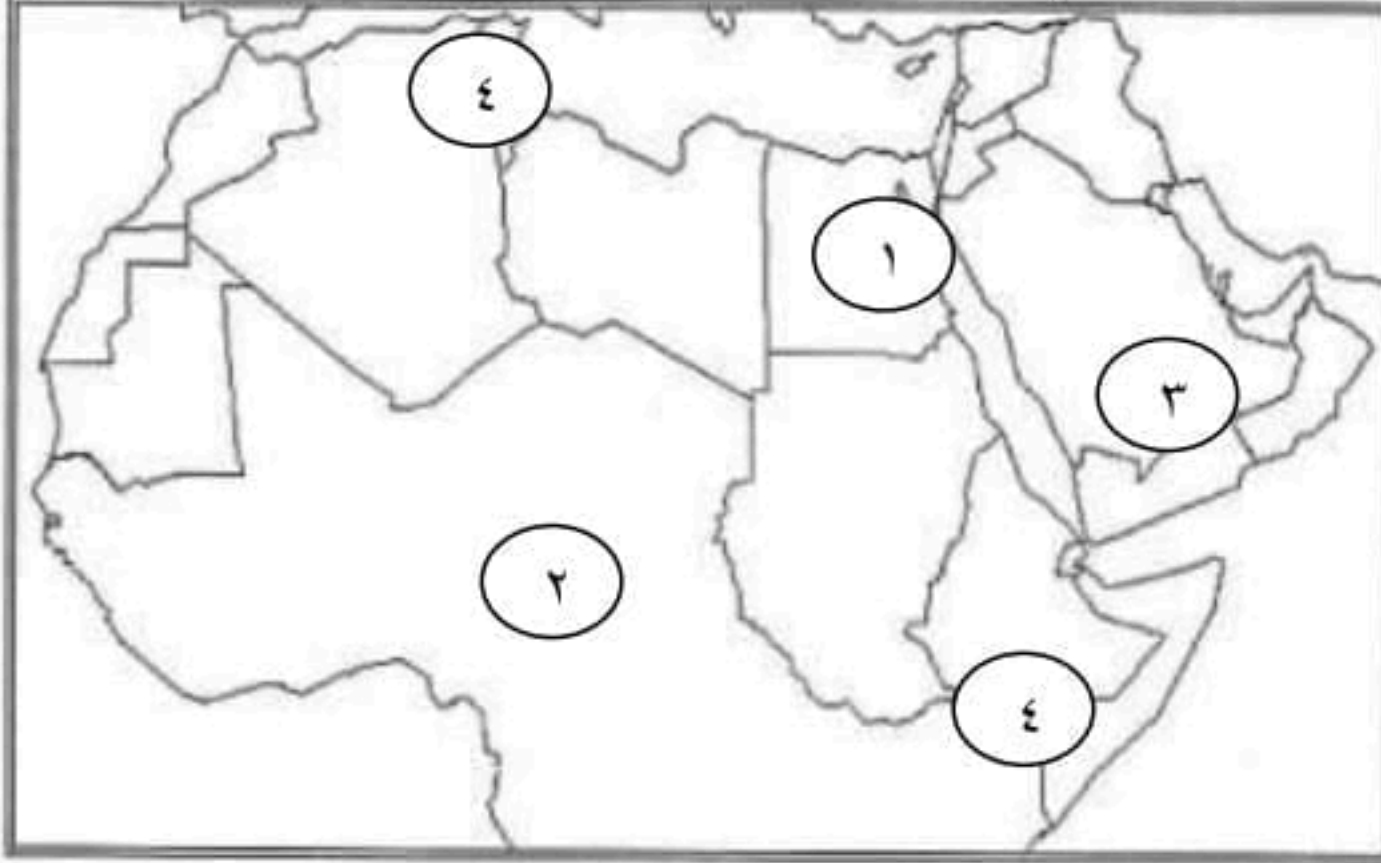
( المدارى - ندرة المياه العذبة - النباتية - الجدى )

- ١- تتعامد الشمس على مدار ..... في فصل الشتاء .
  - ٢- تعيش حيوانات الزراف والاسود بالاقليم .....
  - ٣- تحدث مشكلة ..... بسبب تزايد معدلات الاستهلاك وزيادة أعداد السكان.
  - ٤- تؤدي المشكلات البيئية في الدول العربية إلى تدمير الحياة ..... والحيوانية.
- ب) أذكر أحد الجهود التي اتخذتها معظم الدول العربية للحفاظ على المحميات الطبيعية :

## امتحان مقرر شهر نوفمبر (١)

اسم الطالب : ..... الدرجة : .....  
توقيع ولي الأمر : .....

السؤال الأول : أكتب ما تدل عليه الأرقام التالية في الخريطة التي أمامك (٥)



١ - جبال .....

٢ - الصحراء .....

٣ - هضبة .....

٤ - إقليم مناخ .....

٥ - إقليم مناخ .....

السؤال الثاني : اختر الإجابة الصحيحة مما بين القوسين :- (٥)

١ - أحد الجبال الإلتوائية في الوطن العربي جبال ..... ( الشام - الحجاز - أطلس - عسير )

٢ - السهول التي تتميز بسقوط الأمطار في فصل الشتاء سهول .....

( البحر المتوسط - البحر الأحمر الخليج العربي - بحر العرب )

٣ - تسقط أمطار موسمية صيفية على دولة ..... ( لبنان - سوريا - اليمن - تونس )

٤ - تنمو أشجار الأرز في إقليم مناخ ..... ( الاستوائي - البحر المتوسط - الصحراوي الحار - المداري )

٥ - أعلن عن إنشاء مدينة نيوم الخضراء بدولة ..... ( المغرب - مصر - السعودية - الجزائر )

السؤال الثالث :- أسئلة متنوعة :- (٥)

بم تفسر : يقل تأثير المسطحات المائية على المناخ في الوطن العربي بشكل عام

ما النتائج المترتبة على :- حدوث الحركات الإلتوائية

السؤال الرابع :- ضع علامة صح أمام العبارة الصحيحة وعلامة خطأ أمام العبارة الخطأ مع التصويب (٥)

١ - أدنى نقطة في الوطن العربي هي بحر قزوين ( )

٢ - تمر دائرة الاستواء في شمال الوطن العربي ( )

٣ - تسقط الأمطار صيفا على الأطراف الشمالية للوطن العربي ( )

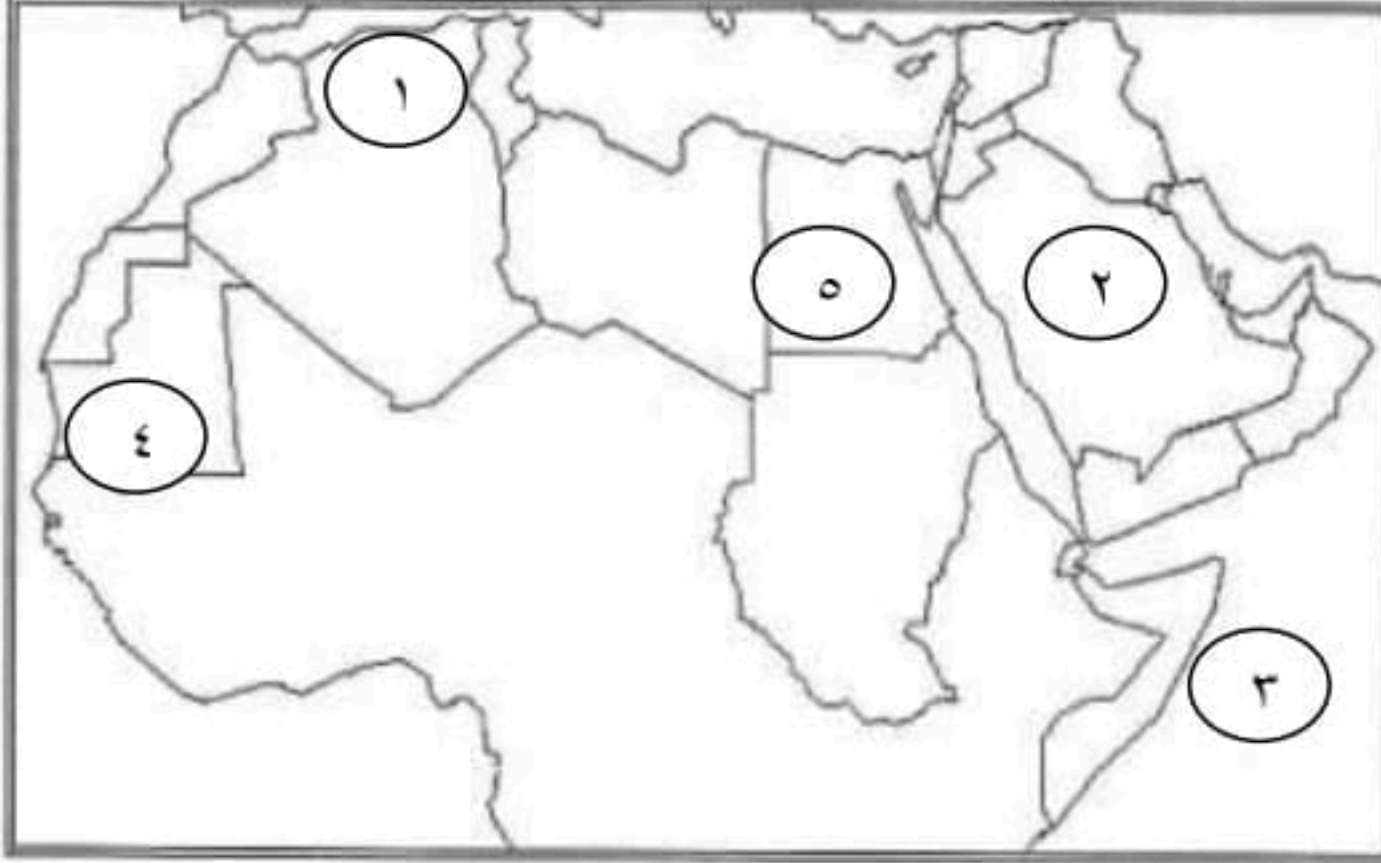
٤ - تساعد المحميات الطبيعية في الحفاظ على الحياة البرية بالوطن العربي ( )

٥ - المشكلات البيئية في الوطن العربي تهدد صحة وحياة المواطنين ( )

## امتحان مقرر شهر نوفمبر (٢)

اسم الطالب : ..... الدرجة : .....  
توقيع ولي الأمر : .....

السؤال الأول : أكتب ما تدل عليه الأرقام التالية في الخريطة التي أمامك (٥)



- ١ - جبال .....
- ٢ - هضبة .....
- ٣ - المحيط .....
- ٤ - دولة .....
- ٥ - إقليم مناخ .....

السؤال الثاني :- ضع علامة صح أمام العبارة الصحيحة وعلامة خطأ أمام العبارة الخاطئة مع التصويب (٥)

- ١ - تنوع الأقاليم المناخية في الوطن العربي أدى إلى تنوع النبات الطبيعي ( )
- ٢ - ساعد تنوع مظاهر السطح على تنوع الأنشطة الاقتصادية ( )
- ٣ - تنتشر حشائش الاستبس في الإقليم الصحراوي الحار ( )
- ٤ - الجفاف هو نقص كمية الأمطار ليومين ( )
- ٥ - يتسم وطننا العربي بمناخ شديد الحرارة صيفا ( )

السؤال الثالث :- أسئلة متنوعة :- (٥)

- ١ - التيارات البحرية ..... مالمقصود بكل من :-
- ٢ - الإقليم المناخي : ..... بم تفسر :- حدوث التصحر

السؤال الثالث : اختر الإجابة الصحيحة مما بين القوسين :- (٥)

- ١ - إحدى هضاب الجناح العربي الآسيوي هضبة ..... ( الشطوط - الصحراء الكبرى - المعازة - بادية الشام )
- ٢ - يحل فصل الشتاء على الوطن العربي عندما تتعامد أشعة الشمس على ..... ( مدار السرطان - مدار الجدي - دائرة الاستواء - الدائرة القطبية )
- ٣ - دولة عربية تقع بالكامل داخل الإقليم الصحراوي الحار هي ..... ( سوريا - لبنان - فلسطين - الأردن )
- ٤ - يعاني نحو ثلثي الوطن العربي من مشكلة ..... ( الجفاف - التصحر - ندرة المياه العذبة - قلة المراعي )
- ٥ - تدهور الأرض وتناقص قدرتها على الإنتاج تشير العبارة لتعريف ..... ( الجفاف - الفيضان - التصحر )

## نموذج الاجابة الاختبار الأول

## السؤال الأول

١ - البحر الأحمر ٢- الصحراء الكبرى ٣- حضر موت ٤- البحر المتوسط ٥- الصحراوي الحار

## السؤال الثاني

١ - أطلس ٢- البحر المتوسط ٣- اليمن ٤- البحر المتوسط ٥- السعودية

## السؤال الثاني

١ - بسبب ضيق مساحة المسطحات المائية وعدم توغل تأثيرها إلى الداخل لوجود الصحاري والمرتفعات القريبة من الساحل مثل جبال البحر الأحمر

٢ - أدت إلى تكوين جبال التوائية مثل جبال أطلس وجبال عمان

## السؤال الرابع

١ - خطأ ٢- خطأ ٣- خطأ ٤- صح ٥- صح

## نموذج الاجابة الاختبار الثاني

## السؤال الأول

١ - أطلس ٢- نجد ٣- الهندي ٤- موريتانيا ٥- الصحراوي الحار

## السؤال الثاني

١ - صح ٢- صح ٣- خطأ ٤- خطأ ٥- صح

## السؤال الثالث

## مالمقصود

١ - هي حركة مياه البحار والمحيطات

٢ - منطقة جغرافية من سطح الأرض تتسم بخصائص مناخية تميزها عن غيرها

بم تفسر : بسبب ١- زحف الكثبان الرملية ٢- الإفراط في استخدام الأسمدة الكيماوية ٣- الرعي الجائر للحيوانات ٤- إزالة الغابات ٥- التوسع العمراني

## السؤال الرابع

١ - بادية الشام ٢- مدار السرطان ٣- الأردن ٤- التصحر ٥- التصحر

السؤال الأول: ( أ ) أمامك خريطة صماء للوطن العربي، اكتب مدلول الأرقام التي عليها



١ - دولة تعاني من الجفاف.....

٢ - دولة يمر عليها تيار بحرى بارد.....

٣ - دائرة تمر جنوب الوطن العربي.....

٤ - البحر.....

(ب) فسر: تعرض الوطن العربي المشكلة الجفاف.....

السؤال الثاني ( أ ) اختر الإجابة الصحيحة

١ - التسلق من الأنشطة الاقتصادية التي يتم ممارستها في .....

(المناطق البحرية - السهول - المناطق الجبلية - الأودية)

٢ - يمتد الوطن العربي بين قارتي إفريقيا وآسيا ويقترّب من قارة .....

( أمريكا الشمالية - أمريكا الجنوبية - أستراليا - أوروبا )

٣ - إقليم مناخي تعيش فيه ثعالب الصحراء والزواحف .....

( الموسمي - الصحراوي - المداري - البحر المتوسط )

(ب) قارن بين الجبال الالتوائية في الجناح الإفريقي والجناح الآسيوي.....

الجبال الالتوائية فى الجناح الإفريقي	الجبال الالتوائية فى الجناح الآسيوي
.....	.....
.....	.....

السؤال الثالث: ( ١ ) اكتب كلمة (صواب) أمام العبارة الصحيحة، وكلمة (خطأ) أمام العبارة غير الصحيحة.

١ - هضبة إفريقيا الشمالية تمتد من جبال البحر الأحمر شرقاً إلى المحيط الهندي غرباً. ( )

٢ - مظاهر السطح لا تؤثر في الخصائص المناخية. ( )

٣ - يتأثر الطيران بالظواهر الجوية التي يصادفها. ( )

تهتم الدول العربية بإنشاء المدن الذكية لتقليل انبعاثات الغازات الدفينة. ( )

(ب) ما النتائج المترتبة على ؟ تعامد الشمس على مدار الجدى فى فصل الشتاء بالوطن العربي.

## السؤال الأول: ( أ ) حدد الأقاليم المناخية



- ١ - فلسطين .....
- ٢ - موريتانيا .....
- ٣ - السعودية .....
- ٤ الصومال .....

## (ب) فسر: تتنوع النباتات الطبيعية والحيوانات البرية في الوطن العربي

.....

## السؤال الثاني: ( أ ) اكتب ما تشير إليه العبارات الآتية:

- ١ - مشكلة بيئية تحدث بسبب نقص كمية الأمطار. (.....)
  - ٢ - إقليم مناخي يتسم بندرة أمطاره طوال السنة وقد تسقط الأمطار على هيئة سيول. (.....)
  - ٣ - مناطق متشابهة في الظروف المناخية من حرارة ورياح وأمطار. (.....)
  - ٤ - جبال نتجت عن حدوث انكسار في قشرة الأرض. (.....)
- (ب) ما النتائج المترتبة على نمو السكان الزائد في الوطن العربي.
- .....

## السؤال الثالث: ( أ ) صوب ما تحته خط

- ١ - قامت الدول العربية بسن قوانين تسمح بالرعي والصيد الجائر في المحميات الطبيعية. ....
- ٢- توجد الشعاب المرجانية على سواحل البحر المتوسط. .....
- ٣- السياح يذهبون إلى بحيرة ناصر بجيبوتي للعلاج والاستجمام. ....
- ٤ - السهول الساحلية كونتها الأنهار. ....

## (ب) قارن بين التيارات البحرية الباردة والتيارات البحرية الدافئة

التيارات البحرية الباردة	التيارات البحرية الدافئة
.....	.....
.....	.....



السؤال الأول: ( أ ) أمامك خريطة صماء للوطن العربي، اكتب مدلول الأرقام التي عليها



١ - دولة تعاني من الجفاف **الصومال**

٢ - دولة يمر عليها تيار بحرى بارد **موريتانيا**

٣ - دائرة تمر جنوب الوطن العربي **دائرة الاستواء**

٤ - البحر **المتوسط**

(ب) فسر: تعرض الوطن العربي المشكلة الجفاف.

**بسبب نقص الأمطار فب بعض السنوات بما لا يسمح بالزراعة او نمو حشائش الرعي**

السؤال الثاني ( أ ) اختر الإجابة الصحيحة

١ - التسلق من الأنشطة الاقتصادية التي يتم ممارستها في .....

(المناطق البحرية - السهول - **المناطق الجبلية** - الأودية)

٢ - يمتد الوطن العربي بين قارتي إفريقيا وآسيا ويقترّب من قارة .....

(أمريكا الشمالية - أمريكا الجنوبية - أستراليا - **أوروبا**)

٣ - إقليم مناخي تعيش فيه ثعالب الصحراء والزواحف .....

( الموسمي - **الصحراوي** - المداري - البحر المتوسط )

(ب) قارن بين الجبال الالتوائية في الجناح الإفريقي والجناح الآسيوي.....

الجبال الالتوائية في الجناح الآسيوي

الجبال الالتوائية في الجناح الإفريقي

**جبال كردستان وزاجروس وعمان**

**جبال أطلس**

السؤال الثالث: ( ١ ) اكتب كلمة (صواب) أمام العبارة الصحيحة، وكلمة (خطأ) أمام العبارة غير الصحيحة.

١ - هضبة إفريقيا الشمالية تمتد من جبال البحر الأحمر شرقاً إلى المحيط الهندي غرباً. ( **خطأ** )

٢ - مظاهر السطح لا تؤثر في الخصائص المناخية. ( **خطأ** )

٣ - يتأثر الطيران بالظواهر الجوية التي يصادفها. ( **صواب** )

تهتم الدول العربية بإنشاء المدن الذكية لتقليل انبعاثات الغازات الدفينة. ( **صواب** )

(ب) ما النتائج المترتبة على ؟ تعامد الشمس على مدار الجدى في فصل الشتاء بالوطن العربي.

**تكون الحرارة معتدلة في معظم أجزاء الوطن العربي باستثناء الأجزاء الشمالية والجبلية تكون أشد برودة**



السؤال الأول: ( أ ) حدد الأقاليم المناخية:

١ - فلسطين **إقليم البحر المتوسط**

٢ - موريتانيا **الإقليم الصحراوي الحار**

٣ - السعودية **الإقليم الصحراوي الحار**

٤ - الصومال **الإقليم المداري**

(ب) فسر: تتنوع النباتات الطبيعية والحيوانات البرية في الوطن العربي

**بسبب تنوع الأقاليم المناخية في الوطن العربي**

السؤال الثاني: ( أ ) اكتب ما تشير إليه العبارات الآتية:

١ - مشكلة بيئية تحدث بسبب نقص كمية الأمطار. ( **الجفاف** )

٢ - إقليم مناخي يتسم بندرة أمطاره طوال السنة وقد تسقط الأمطار على هيئة سيول. ( **الصحراوي** )

٣ - مناطق متشابهة في الظروف المناخية من حرارة ورياح وأمطار. ( **الأقاليم المناخية** )

٤ - جبال نتجت عن حدوث انكسار في قشرة الأرض. ( **انكسارية** )

(ب) ما النتائج المترتبة على نمو السكان الزائد في الوطن العربي.

**زيادة معدلات استهلاك المياه وبالتالي تحدث مشكلة الجفاف**

السؤال الثالث: ( أ ) صوب ما تحته خط

١ - قامت الدول العربية بسن قوانين تسمح بالرعي والصيد الجائر في المحميات الطبيعية. تجرم

٢- توجد الشعاب المرجانية على سواحل البحر المتوسط. البحر الأحمر

٣- السياح يذهبون إلى بحيرة ناصر بجيبوتي للعلاج والاستجمام. عسل

٤ - السهول الساحلية كونتها الأنهار. الفيضية

(ب) قارن بين التيارات البحرية الباردة والتيارات البحرية الدافئة

التيارات البحرية الباردة	التيارات البحرية الدافئة
<b>تعمل على خفض درجة حرارة السواحل التي تمر بها</b>	<b>تعمل على رفع درجة حرارة السواحل التي تمر بها</b>

## اختبار على الوحدة الثانية

أعداد:

مس / هاجر الباز

## س١: اكل العبارات الاتية

١- قامت الدول العربية بإصدار قوانين تحرم القطع العشوائي لـ.....

٢- أكبر الظاهرات التضاريسية في قارة إفريقيا هي.....

٣- تكونت السهول ..... من رواسب الأنهار

٤- ساعدت مظاهر السطح المتنوعة على تعدد الأنشطة.....

## س٢: أجب عما يلي:

## ١- بم تفسر

① اتجهت معظم الدول العربية لاستخدام مصادر طاقة نظيفة وإنشاء مدن ذكية؟

② يسود المناخ الحار معظم أجزاء الوطن العربي؟

٢- اذكر: ① أتنين من التهديدات البشرية التي تتعرض لها المحميات الطبيعية

٣- ما العلاقة بين: ① المياه الجوفية - الواحات ؟

س٣: ضع علامة (صح) أمام العبارة الصحيحة وعلامة (خطأ) أمام العبارات الخاطئة

١- تتكون الثلوج على جبال لبنان ( )

٢- يشتهر إقليم المناخ الصحراوي الحار بنمو أشجار الزيتون ( )

٣- تسقط الأمطار بغزارة على الجهات الداخلية للمرتفعات ( )

س٤: أمامك صورتان لأحد مظاهر السطح بالوطن العربي ، حدد اسم الظاهرة وسبب تكوينها



٢- اسم الظاهرة .....

سبب تكوينها .....



١- اسم الظاهرة .....

سبب تكوينها .....



ر الباز